

المستوى 2

الرياضيات

أجوبة الرائز التشخيصي للمستلزمات الدراسية في مادة الرياضيات
مشروع PEEQ 2017

المركز الوطني للتقويم والامتحانات والتوجيه
-قسم التقويم-

المرجو وضع العلامات التالية في الخانة جانب الجواب كما يلي:
إذا كان الجواب صحيحا ✓
إذا كان الجواب خاطئا ✗
إذا لم تكن إجابة N

1- صِلِي/صِلْ بِخَطِّ كُلِّ عَدَدٍ مَكْتُوبٍ بِالْحُرُوفِ بِالْعَدَدِ الْمَكْتُوبِ بِالْأَرْقَامِ الَّذِي يُنَاسِبُهُ:

69 • ثَمَانِيَةٌ وَأَرْبَعُونَ •
55 • خَمْسُونَ •
50 • تِسْعَةٌ وَسِتُّونَ •
48 •

2- رَتِّبِي/رَتِّبْ هَذِهِ الْأَعْدَادَ مِنَ الْأَكْبَرِ إِلَى الْأَصْغَرِ:

67 - 54 - 65 - 51 - 76 - 59

76 → 67 → 65 → 59 → 54 → 51

3- احْسَبِي/احْسَبْ:

$$3 + 4 = \dots 7 \dots$$

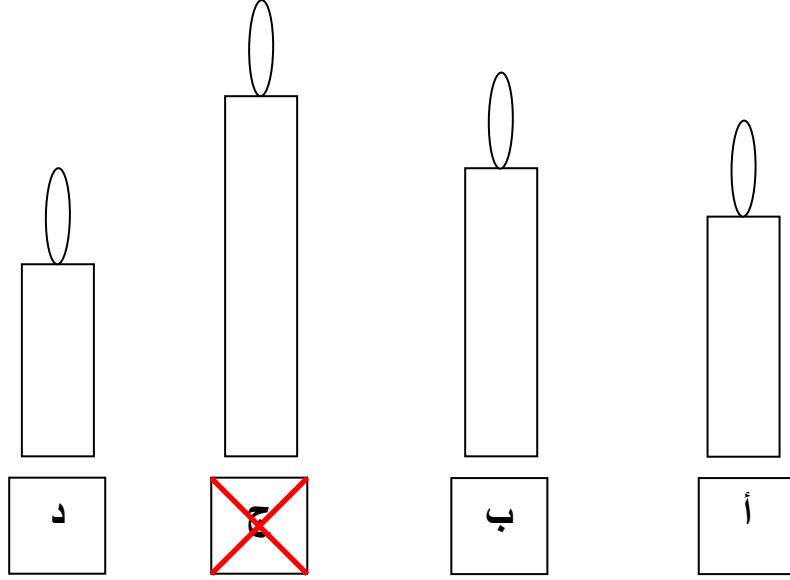
4- ضَعِي/ضَعْ عِلَامَةَ (X) فِي الْخَانَةِ تَحْتَ الْوَضْعِ الصَّحِيحِ لِلْعَمَلِيَّةِ الْآتِيَةِ:

$$\begin{array}{r} 10 \\ + 7 \\ \hline \square \end{array} \quad \begin{array}{r} 10 \\ + 7 \\ \hline \times \end{array}$$


5- اُنْجِزِي/اُنْجِزِ الْعَمَلِيَّةَ الْآتِيَةَ:

$$\begin{array}{r} 78 \\ + 13 \\ \hline = 91 \end{array}$$

6 - ضَعِي/ ضَعِ عَلامَةَ (×) تَحْتَ أَطوَلِ شَمْعَةٍ:



7 - ضَعِي/ ضَعِ عَلامَةَ (×) فِي الخَانةِ المُناسِبَةِ:



صحيح خطأ



أ- التُّفَاحُ أَخَفُ مِنَ العِنَبِ




ب- التُّفَاحُ أَثَقُلُ مِنَ العِنَبِ



ج- التُّفَاحُ لَهُ نَفْسُ وَزْنِ العِنَبِ

8- لَاحِظِي/لَاحِظِ السَّاعَةَ الْآتِيَّةَ، ثُمَّ أَتَمِّي/أَتَمِّم:



تُشِيرُ السَّاعَةُ إِلَى الثَّلَاثَةِ تَمَامًا

أَوْ الثَّلَاثَةُ أَوْ 3:00 أَوْ 3 أَوْ 15:00

9- لِشِرَاءِ لُعْبَةٍ ثَمَنُهَا 17 دِرْهَمًا، اسْتَعْمَلِي/اسْتَعْمَلِ الْقِطْعَ النَّقْدِيَّةَ الْمُنَاسِبَةَ مِنْ بَيْنِ الْقِطْعِ النَّقْدِيَّةِ الْآتِيَّةِ.

ضَعِي/ضَعِ عِلَامَةً (X) تَحْتَ الْقِطْعِ الَّتِي سَتَخْتَارِينَهَا / سَتَخْتَارُهَا:



10 دِرَاهِم



1 دِرْهَم



دِرْهَمَان



5 دِرَاهِم



1 دِرْهَم




أَوْ



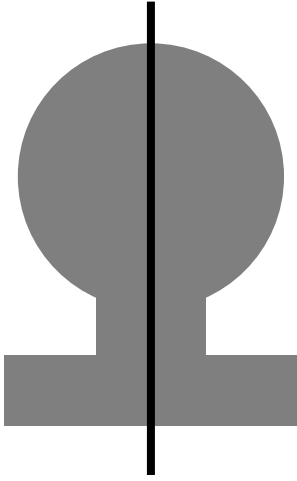
10- اكْمَلِي/اكْمَلِ كِتَابَةَ أَيَّامِ الْأُسْبُوعِ:

الأحد	السبت	الجمعة	الأربعاء	الأثنين	الثلاثاء	الخميس
-------	-------	--------	----------	---------	----------	--------

11- لَوْنِي/لَوْنِي مَا تَحْمِلُهُ هَذِهِ الْفَتَاةُ بِيَدِهَا الْيَمْنَى:



12- ضعي/ضع علامة (x) تحت الشكل الذي بطيه على الخط المار من وسطه، نحصل على جزئين متطابقين:



13- ارسمي/ارسم المسار من ▲ إلى ● حسب هذا القن الآتي:

