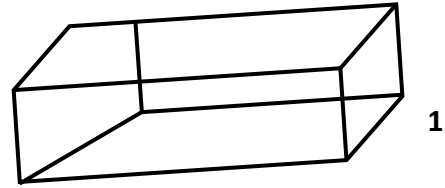
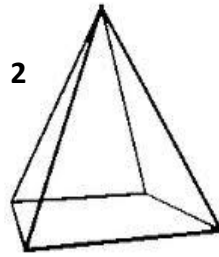
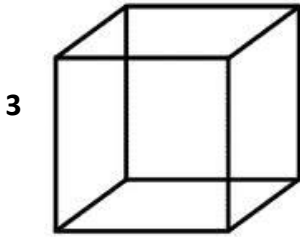
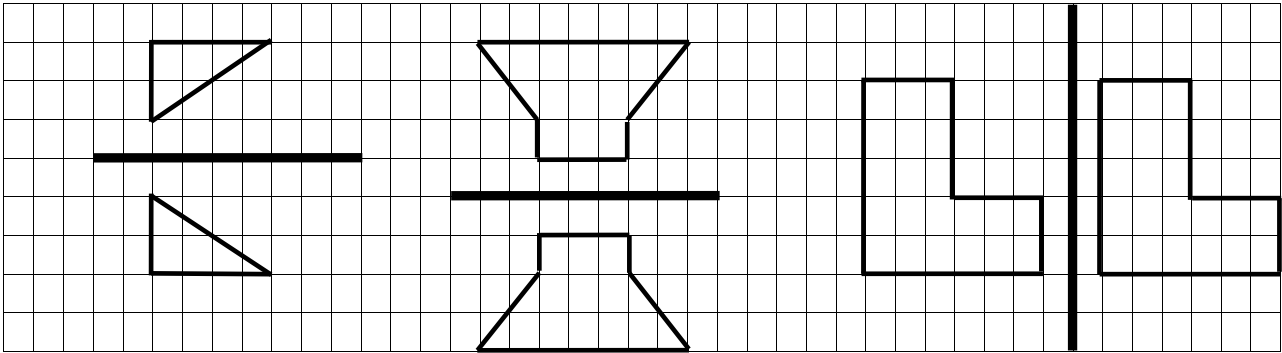
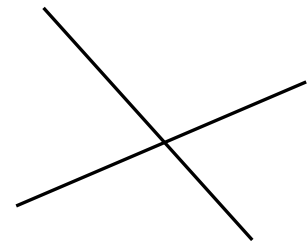
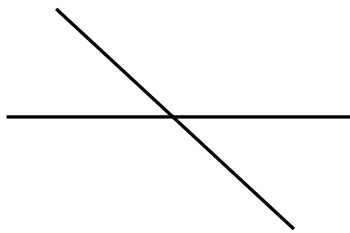
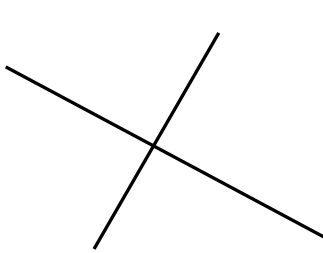


(1) لأحظ المَجَسَمات التالية ثم املا الجَدُول :



اسمه	شكل وجُوهه	عَدَدُ حُرُوفِهِ	عَدَدُ وُجُوهِهِ	عَدَدُ رُؤُوسِهِ	رقم الجسم
					1
					2
					3

(2) لون بنفس اللون كل شكل و مماثله :

(3) حدد كل مستقيمين متعامدين، بوضع العلامة \perp على الزاوية القائمة.

(4) ارسم المستقيم (g) الذي يمر من النقطة B و يكون موازيا للمستقيم (d) .

