

التقويم التثقيفي

مادة الرياضيات

الاسم :

1. ضع وانجز العمليات التالية

328×3

.....
.....
.....

354×25

.....
.....
.....

$486 - 258$

.....
.....
.....

$356 + 12$

.....
.....
.....

2. احط بخط العدد المناسب:

4305

4035

4053

أربعة الاف وخمسة وتلاتون

2264

2000200604

2642

الفان ومئتان وأربعة وستون

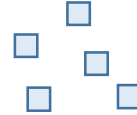
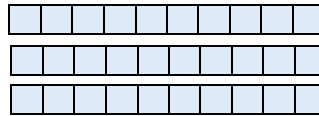

580

508

805

خمسمئة وثمانية

3. اكتب العدد الممثل بالمربعات والقضبان والصفائح:



4. ضع الرمز المناسب > او < او =:

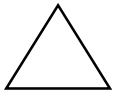
$8572 \dots\dots 1537$

$1257 \dots\dots 2561$

$553 \dots\dots 535$

$301 \dots\dots 203$

5. احط الاسم المناسب لكل شكل هندسي:




مربع
مستطيل
دائرة
مثلث



مربع
مستطيل
دائرة
مثلث



مربع
مستطيل
دائرة
مثلث



مربع
مستطيل
دائرة
مثلث

$1m = \dots\dots cm$

$1kg = \dots\dots g$

$1kg500g = \dots\dots g$

6. اتمم ماييلي :

7. يملك أحمد 12 درهما واعطاه جده 5 دراهم ثم اشترى كتابا بثمن 10 دراهم.

كم أصبح لأحمد من النقود؟