

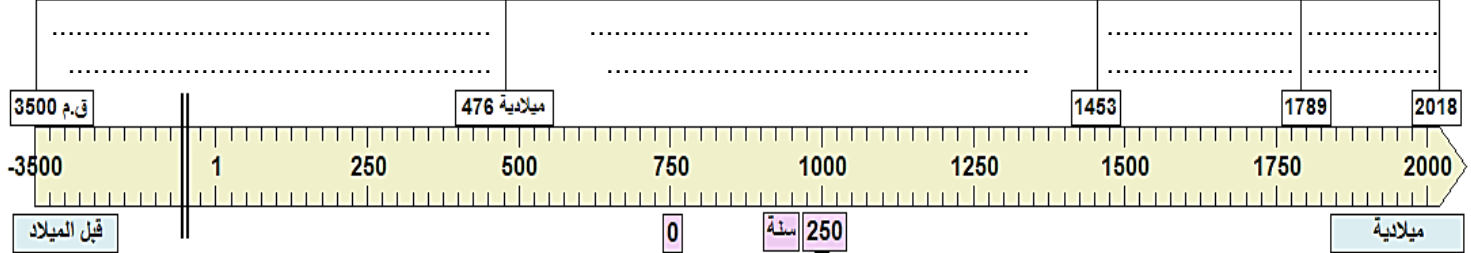
الاسم:	بسم الله الرحمن الرحيم	النقطة
النسب:	تقويم تشخيصي للسنة الثانية إعدادي في	تاريخ الإنجاز:/...../.....
الرقم:	مادة الاجتماعيات - بداية الموسم الدراسي	تاريخ التصحيح:/...../.....

التاريخ: (6)

1) اربط (ي) بسهم بين المصطلح و تعريفه:

الحضارة	أنظمة سياسية كونها الأمازيغ في شمال إفريقيا حوالي القرن الثالث ق.م.
الممالك الأمازيغية	تولية المسلمين لخليفة أو سلطان يسير شؤونهم العامة دينيا و دنيويا.
البيعة	الدولة الإسلامية في عهد الأمويين والعباسيين.
	كل ما أنتجته مجموعة بشرية ما في مجال معين وخلال فترة زمنية معينة.

2) وطن (ي) على الخط الزمني العصور التاريخية التالية: التاريخ المعاصر - التاريخ الوسيط - التاريخ القديم - التاريخ الحديث



3) حول (ي) بعض السنوات المحددة للعصور إلى ألفيات وقرون: (2.5ن)

السنوات	الألفية	القرن الميلادي
476 م	الخامس
1453 م	الثانية
1789 م	الثامن عشر
2018 م

الجغرافيا: (7ن)


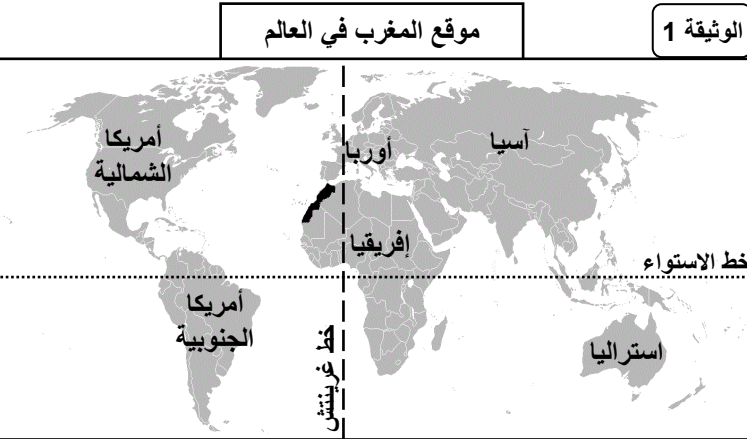
1) حدد (ي) موقع المغرب بالنسبة لخطي غرينتش والاستواء: (1ن)

2) سمّ (ي) القارة التي ينتمي إليها المغرب: (0.5ن)

3) اذكر (ي) أقرب قارة إلى المغرب: (0.5ن)

4) املأ (ي) الخانات الفارغة في الوثيقة 2 بأسماء الأشكال التضاريسية المناسبة: تلال - هضبة قارية - جبال - هضاب - حافة قارية - سهول (2ن)

5) قارن (ي) بين الهضاب والسهول من حيث الشكل والخصائص: (1ن)



6) أتمم (ي) الجمل التالية بما يناسب: الثاني - أولية - ديموغرافية - الصناعية - الثالث - للفلاحة (2ن)

- يعرف الإنسان حركات مستمرة في المكان والزمان.
- تتمثل المقومات الطبيعية في التضاريس والتربة والمناخ.
- تقوم الصناعة على تحويل مواد إلى مُنتَج قابل للاستهلاك.
- تشكل التجارة والخدمات القطاع ضمن القطاعات الاقتصادية.

التربية على المواطنة: (7ن)

>> لا ديمقراطية، إلا بسيادة قانون عادل يطال الجميع << أكتب (ي) موضوعا مقاليا (مقدمة، عرض، خاتمة) توضح (ين) فيه ما يلي: مفهوم الديمقراطية وأهم المبادئ الحقوقية المرتبطة بها، ثم مفهوم القانون ودوره في حياة المجتمعات.

الاجابة في الخلف، وفقك الله.