

الموضوع الثاني : مكون الجغرافيا

(1) صل (ي) بسهم في الجدول الأول بما يناسبه في الجدول الثاني: (2ن)

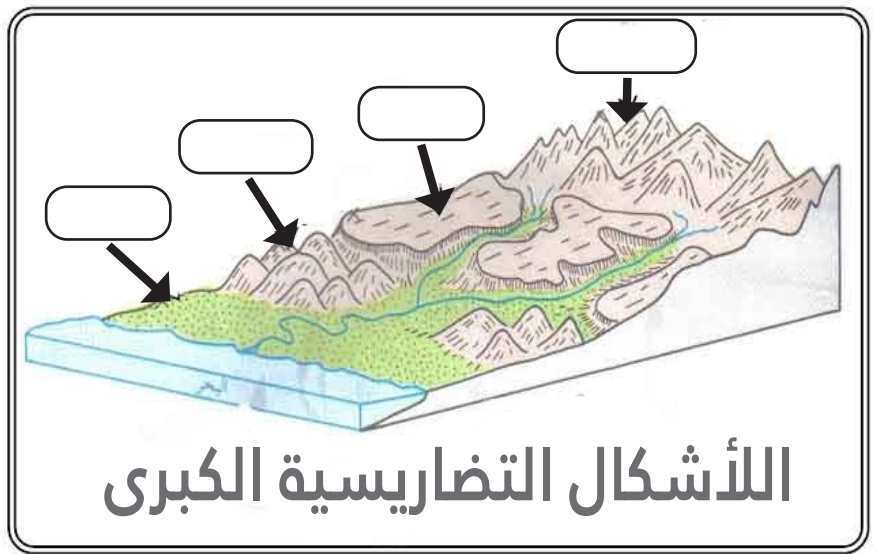
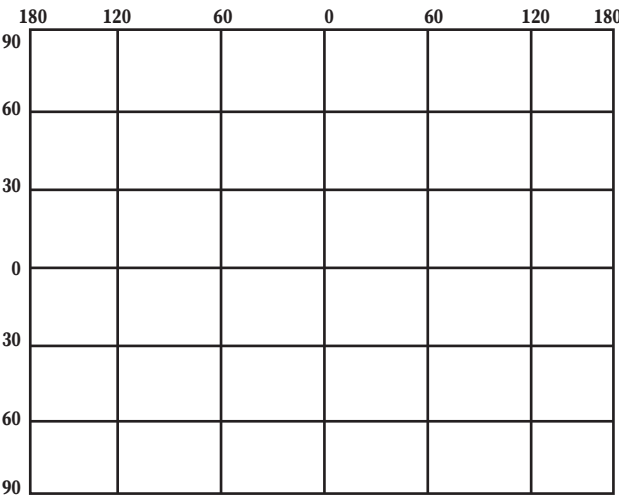
الكثافة السكانية	●
نسبة التزايد الطبيعي	●
الخريطة	●
المناخ	●

دراسة حالة طقس في منطقة كبيرة خلال مدة زمنية طويلة (30 سنة وأكثر)	●
صورة مصغرة لهيئة الأرض أو جزء منها	●
عدد الولادات ناقص عدد الوفيات	●
عدد سكان منطقة معينة مقسومة على مساحة تلك المنطقة	●

(2) احسب (ي) الكثافة السكانية لمنطقة (A) اذا علمت أن عدد سكان هذه المنطقة هو 200 نسمة ومساحتها 5 كلم مربع : (1ن)

(3) املأ (ي) الشكل اسفله بما يناسب (الهضاب - التلال - الجبال - السهول) : (1ن)

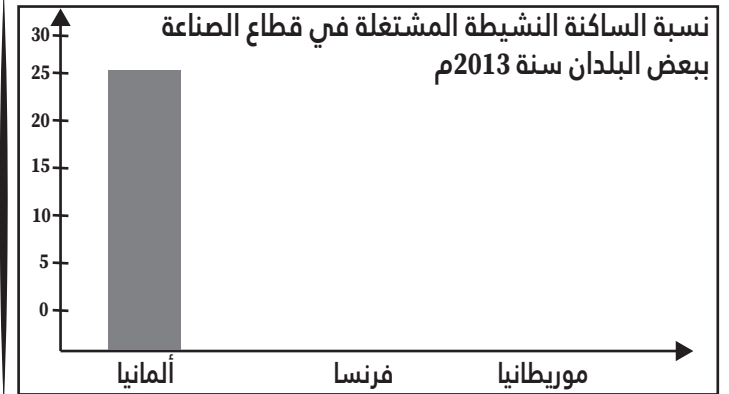
(4) ارسم (ي) العناصر التالية في المكان المناسب (خط الاستواء - خط غرينتش) (1ن)



(5) أتمم (ي) المبيان أسفله انطلاقا من معطيات الجدول جانبه: (2ن)

البلد	ألمانيا	فرنسا	موريطانيا
النسبة المؤية	24.6%	18.7%	10%

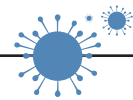
قارن بين هذه النسب : (0.5ن)



الموضوع الثالث : مكون التربية على المواطنة

كريم يرفض وضع الكمامة ولا يتخذ أي تدابير وقائية من قبيل تعقيم الأيدي وغسلها بالماء والصابون باستمرار بهدف الحماية من فيروس كورونا المستجد

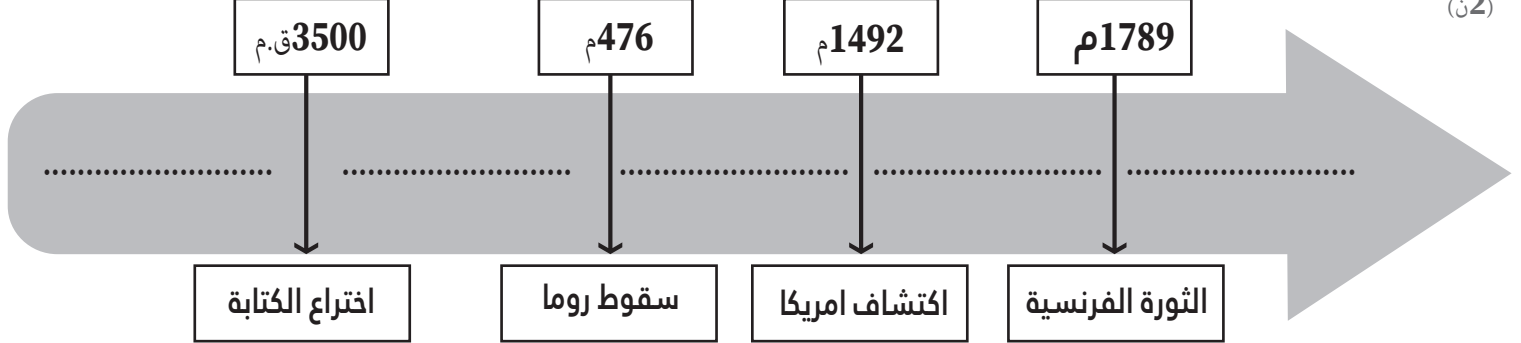
وضح (ي) موقفك تجاه كريم وقدم (ي) له نصائح وارشادات عملية (2.5ن)



النقطة	تقويم تشخيصي لمستوى الثانية اعدادي لبدية السنة الدراسية في مادة الاجتماعيات		الجمهورية المغربية وزارة التربية الوطنية والتكوين المهني والتعليم العالي والبحث العلمي المديرية الإقليمية سطات المؤسسة التعليمية: ثانوية اولاد فارس التاهيلية
...../20	القسم : 2/.....	مدة الانجاز : 55 دقيقة	
	الأستاذ: عبد الله صابر الموسم الدراسي : 2021/2020	الاسم الكامل : الرقم الترتيبي:	

الموضوع الأول: مكون التاريخ

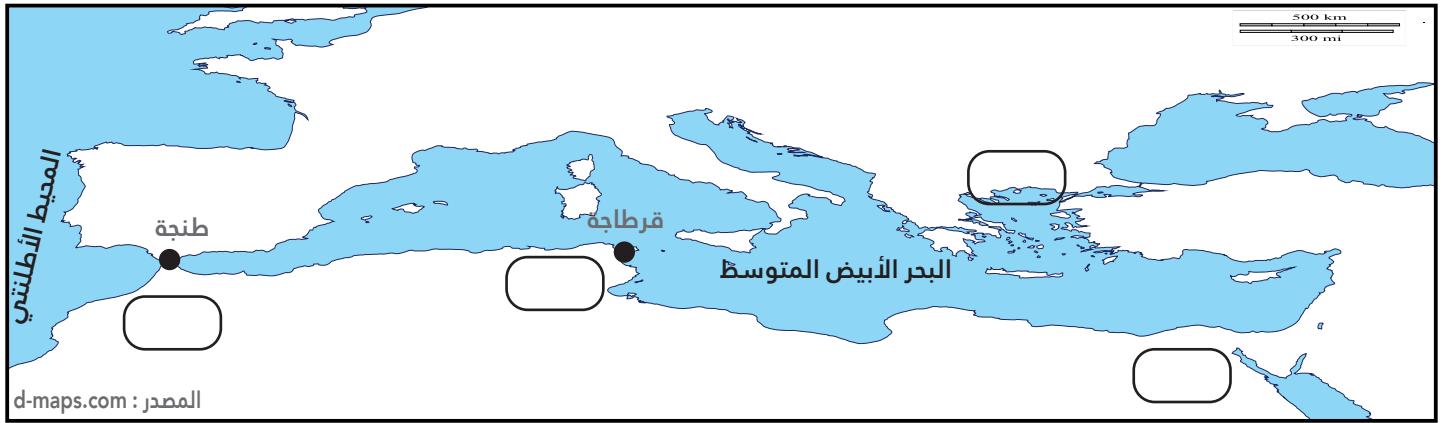
1) مثل (ي) العصور التاريخية التالية على الخط الزمني : العصر الوسيط / العصر الحديث/ العصر القديم / العصر المعاصر/ عصور ما قبل التاريخ (2ن)



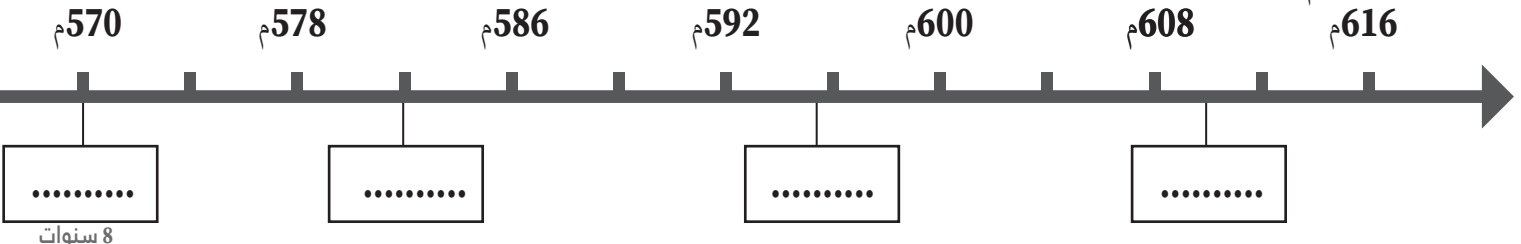
2) املا (ي) الجدول بما يناسب : الدولة العلوية/ الدولة المرابطية / الدولة الموحدية / الدولة المرينية / الدولة السعدية / الدولة الوطاسية الدولة الادريسية : (3ن)

فترة حكمها	الدولة التي حكمت المغرب
788/974 م.	
1056/1147 م.	
1121/1269 م.	
1244/1465 م.	
1462/1554 م.	
1511/1665 م.	
2020/1666 م.	

3) وطن (ي) على الخريطة أسماء الحضارات التالية: 1- المغرب القديم 2- مصر القديمة 3- بلاد الاغريق 4- قرطاجة (1ن)



4) مثل (ي) على الخط الزمني الأحداث التالية: نزول الوحي 610م/مولد الرسول (ص) 570م/خروج مع عمه الى الشام 582م/زواجه من خديجة بنت خويلد 595 م (2ن)



5) صنف (ي) داخل الجدول العناصر التالية : 1-قانون حمورابي 2-الديمقراطية 3-الكتابة المسمارية 4-الألعاب الأولمبية . (2ن)

بلاد الاغريق	بلاد الرافدين	الحضارة المصرية القديمة
.....
.....	الأهرامات