

## مكون التاريخ

## 1 - وطن على الخط الزمني المعطيات التالية

- اكتشاف أمريكا (1492) - معركة وادي المخازن (1578) - فترة حكم المولى إسماعيل (1672 - 1727) - استقلال الولايات المتحدة الأمريكية (1776)

1450 1500 1550 1600 1650 1700 1750 1800



2cm = سنة 50

## 2 - أجب بصحيح أو خطأ

\*\*\* سميت معركة وادي المخازن بمعركة الملوك الثلاثة .....

\*\*\* انطلقت الثورة الفلاحية والصناعية من إنجلترا .....

\*\*\* مؤسس الدولة العلوية هو أحمد المنصور الذهبي .....

\*\*\* نهج السلطان محمد بن عبد الله سياسة الانغلاق .....

## 3 - ضع علامة × في الخانة المناسبة

1578

1575

1565

\*\*\* وقعت معركة وادي المخازن سنة

المولى إسماعيل

الحسن الاول

المولى سليمان

\*\*\* أشهر وأقوى سلاطين الدولة العلوية هو

المرابطية

الادريسية

المرينية

\*\*\* وقعت معركة الزلاقة في عهد الدولة

## 4 - صل بسهم بين الديانة ونوعها

عصر الأنوار

\*\*\* مارتن لوثر

الحركة الإنسية

\*\*\* فاسكو دي غاما

الإصلاح الديني

\*\*\* مونتيسكيو

الاكتشافات الجغرافية

\*\*\* كريستوف كولومبوس

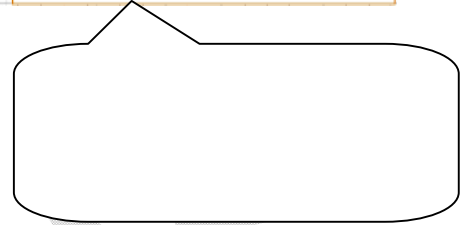
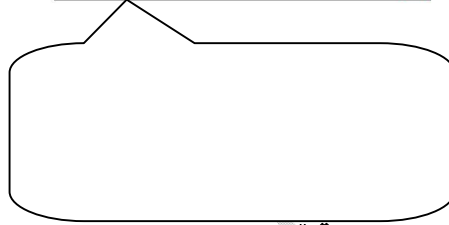
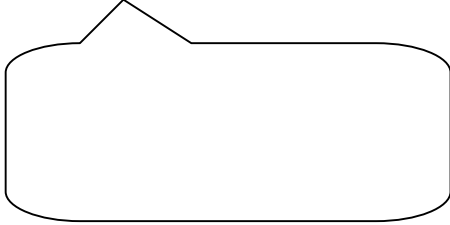
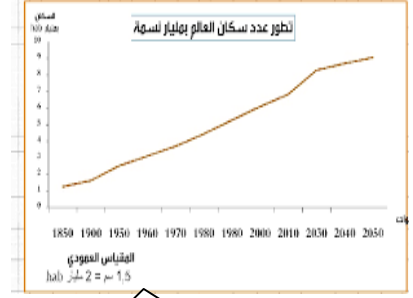
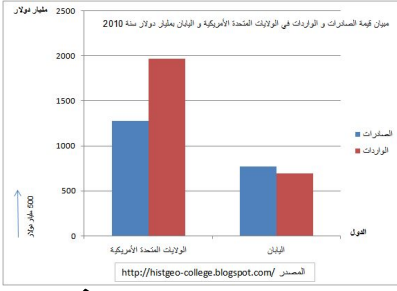
## مكون الجغرافيا

## 1 - عرف المصطلحات التالية

+ التنمية المستدامة .....

+ مؤشر التنمية البشرية .....

### 3 - حدد الحالة التي يستعمل فيها كل مبيان في الحالات أسفله



### 4 - صل بسهم بين القاعدة والعلاقة التي تناسبها

عدد السكان  $\div$  المساحة

\*\*\* التزايد الطبيعي

نسبة الولادات + نسبة الوفيات

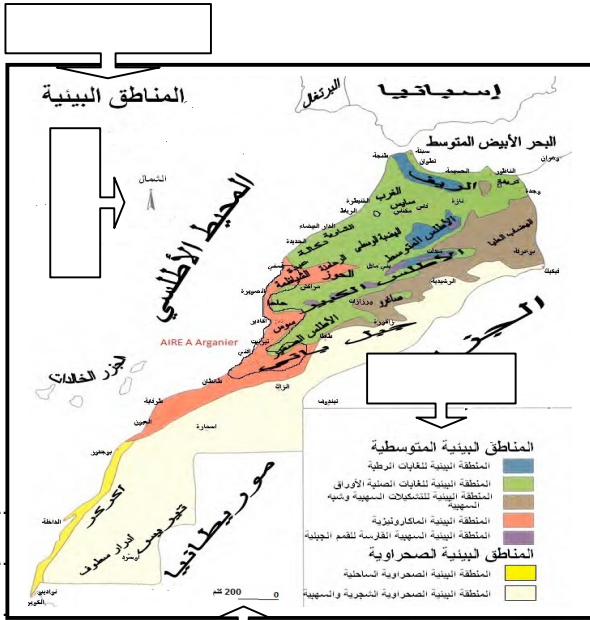
\*\*\* الكثافة السكانية

قيمة الواردات - قيمة الصادرات

\*\*\* الميزان التجاري

نسبة الولادات - نسبة الوفيات

### 5 - ضع كل عنصر من عناصر الخريطة في مكانه الصحيح



### 6 - أحسب ما يلي

أحسب الكثافة السكانية للمغرب إذا علمت أن مساحته

هي 710 850 كلم<sup>2</sup> و عدد سكانه 33 848 242 مليون نسمة

### مكون التربية على المواطنة

### 1 - عرف ما يلي

الحقوق المدنية.....

الحقوق السياسية.....

### 2 - أتمم ملء الجدول بما يلي

395 عضوا - الأقليم - حرية الصحافة - ست سنوات - حق التنقل - السلطة السياسية

90 عضوا على الأقل و120 عضوا على الأكثر - حرية التعبير - خمس سنوات - الحق في السكن

مجلس النواب	المقومات الأساسية للدولة	حقوق مدنية	حقوق سياسية	مجلس المستشارين