


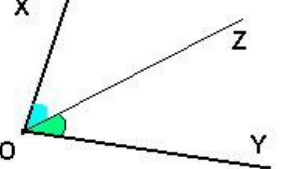
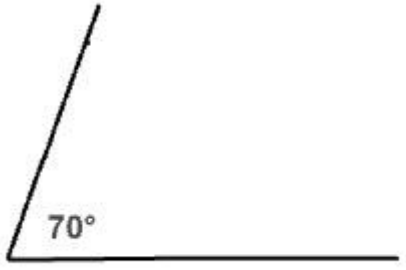

 <p>مستقيمة</p>	<p><math>\widehat{XOY}</math> زاوية مستقيمة</p>
 <p>منفرجة</p>	<p><math>\widehat{XOY}</math> زاوية منفرجة</p>
 <p>قائمة</p>	<p><math>\widehat{XOY}</math> زاوية قائمة</p>
 <p>حادة</p>	<p><math>\widehat{XOY}</math> زاوية حادة</p>
	<p>[OZ] هو منتصف الزاوية <math>\widehat{XOY}</math>          منتصف زاوية هو نصف المستقيم الذي يجزئ الزاوية إلى زاويتين متقايسيتين وهو محور تماثل لهما.</p>

	<p>أستعمل المسطرة و المنقلة لرسم زاوية قياسها: <math>70^\circ</math></p>
---	--

	<p>أستعمل المنقلة لقياس الزوايا          قياس هذه الزاوية هو : <math>112^\circ</math></p>
---	---