



سلسلة تمارين العجلة

الثالث ابتدائي

التمرين الأول

1 ضع وأنجز ثم رتب الأعداد المحصل عليها ترتيبا تنازليا بوضع الرمز المناسب:

$812 + 718$

$828 - 698$

575×6

$500 + 389 + 51$

2 أكتب بالحروف الأعداد التالية:

530

402

293

490

260

Exercice deux

1 J'écris les chiffres qui conviennent à la place des points dans chacune des opérations suivantes.

$$\begin{array}{r} + \\ \begin{array}{|c|c|c|} \hline \cdot & 3 & 2 \\ \hline 5 & \cdot & \cdot \\ \hline \hline 7 & 2 & 8 \\ \hline \end{array} \end{array}$$

$$\begin{array}{r} + \\ \begin{array}{|c|c|c|} \hline 7 & 4 & 9 \\ \hline \cdot & \cdot & \cdot \\ \hline \hline 8 & 8 & 5 \\ \hline \end{array} \end{array}$$

$$\begin{array}{r} - \\ \begin{array}{|c|c|c|} \hline 7 & 4 & 9 \\ \hline \cdot & \cdot & \cdot \\ \hline \hline 1 & 8 & 5 \\ \hline \end{array} \end{array}$$

$$\begin{array}{r} \times \\ \begin{array}{|c|c|c|} \hline \cdot & \cdot & 9 \\ \hline & & 5 \\ \hline \hline 6 & 4 & 5 \\ \hline \end{array} \end{array}$$

التمرين الثالث

1 ضع الرمز (>-<<=) مكان النقط.

125	152
220	200 + 20
909	990
800 + 20 + 8	699
888	900
951 + 9	960
200 + 10 + 1	1 + 10 + 200

غذ قلبك بالآيات وغذ عقلك بالرياضيات

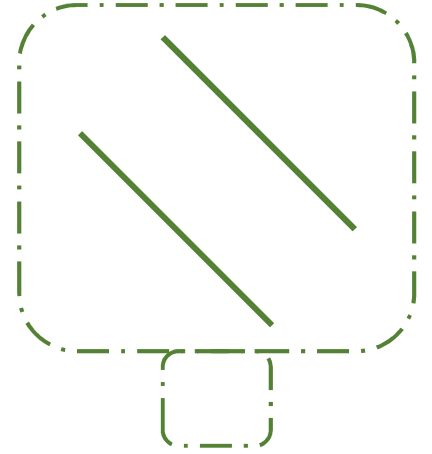
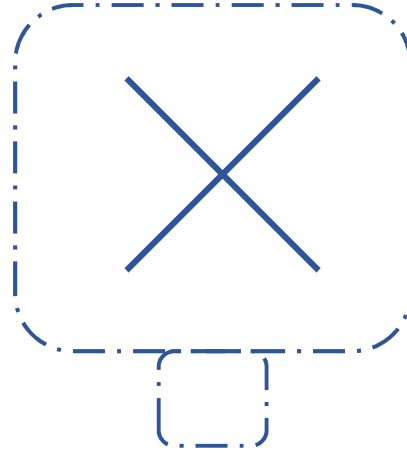
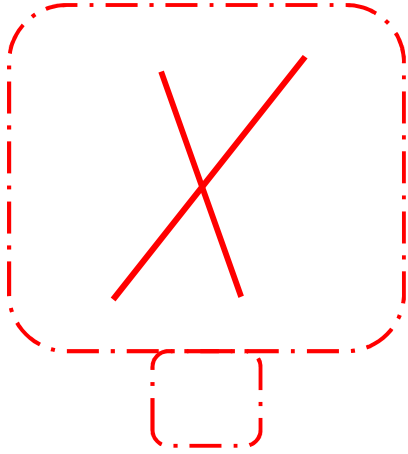


سلسلة تمارين العجلة

الثالث ابتدائي

التمرين الرابع

1 ضع علامة x للمستقيمين المتعامدين و علامة \surd للمستقيمين المتوازيين



التمرين الرابع

يملك التاجر موسى 250kg كيلو غراما من التفاح، في طريقه الى السوق باع 50kg كيلو غراما بثمان 5dh للكيلوغرام الواحد، وباع الباقي في السوق بثمان 6 دراهم للكيلوغرام الواحد

1 حدد العملية المناسبة لحساب عدد الكيلوغرامات التي أوصلها الفلاح موسى الى السوق

$250 + 450$

$250 + 50$

$250 - 50$

2 حدد العملية المناسبة لحساب ثمن بيع الفلاح موسى التفاح قبل وصوله الى السوق

50×6

$50 + 5$

$50 - 5$

3 حدد العملية المناسبة لحساب ثمن بيع الفلاح موسى التفاح عند وصوله الى السوق

$(250 + 50) \times 6$

$(250 - 50) \times 6$

200×6

قد تكون أكثر من إجابة صحيحة