

Exercice 1

pose et effectue les opérations :

ضع وأنجز العمليات التالية :

التمرين 1

+	$5324 + 2671$	$4520 + 2055$	$3024 + 2057$	+
-	$2703 - 2479$	$6170 - 1864$	$8320 - 3920$	-
×	2067×25	3046×86	2437×75	×

Exercice 2

Range dans l'ordre croissant :

رتب ترتيبا تزايديا :

التمرين 2

2090 ; 353 ; 2682 ; 4087 ; 3472 ; 3775

Exercice 3

Range dans l'ordre décroissant :

رتب ترتيبا تناقصيا :

التمرين 3


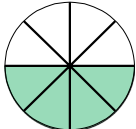


7043 ; 7094 ; 8003 ; 7196 ; 7002 ; 8010

Exercice 4

Détermine le fraction convenable :

حدد الكسر المناسب :

التمرين 4

			
.....

Exercice 5

Complète les égalités suivantes :

املء المتساويات التالية :

التمرين 5

 $\frac{1}{5} = \frac{6}{\dots}$; $\frac{7}{2} = \frac{\dots}{15}$; $\frac{8}{3} = \frac{\dots}{6}$; $\frac{4}{6} = \frac{8}{\dots}$

Exercice 6

calcul :

أحسب مايلي :

التمرين 6

$\frac{3}{7} + \frac{8}{7}$	$\frac{17}{43} + \frac{8}{43}$	$\frac{18}{54} + \frac{20}{54}$	$\frac{63}{52} + \frac{24}{52}$	$\frac{10}{12} + \frac{6}{12}$	$\frac{3}{7} + \frac{8}{7}$
-----------------------------	--------------------------------	---------------------------------	---------------------------------	--------------------------------	-----------------------------



Exercice 7

Problème : مسألة :

التمرين 7

يتوفر العم محمد على حديقة منزل شكلها مستطيل طولها 40 m وعرضها 25m اراد ان يحيطها بسياج لكي يمنع دخول الحيوانات اليها . احسب محيط الحديقة.

Exercice 8

Converti les mesures suivantes : حول القياسات إلى الوحدة المطلوبة :

التمرين 8

45g = dg

60 hg = g

5kg = dag

7t = q

32q = kg

74dg = g = mg



موقع سعدان التعليمي

موارد رقمية بحلة جميلة

www.saadane.com

