

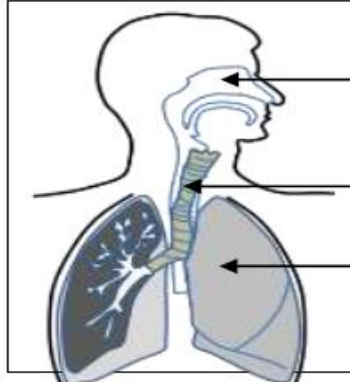
Pr : Fatima Zohra EL-HOUITI  
**Matière : SVT, Niveau : 1 APIC**  
**Durée : 1h**  
**Province de Kénitra 2019/2020**  
 Le .....

Non : .....  
 Prénom : .....  
**Classe : 1APIC .....**  
 N° : .....

1) Cocher la bonne réponse ; Lors de l'expiration, l'Homme **(1pt) :**

- a- Rejette le dioxyde de carbone (CO2) dans le milieu.
- b- Prend le dioxygène à partir du milieu.

2) Relier par une flèche chaque organe de l'appareil respiratoire au nom qui lui convient **(1.5pt) :**



- a ● ● 1 - Poumon
- b ● ● 2- Fosse nasale.
- c ● ● 3- Trachée

3) Classer les animaux suivants selon leurs régimes alimentaires (herbivore, carnivore) **(4pts) :**

Renard, sauterelle, lièvre, aigle, vache, chat, gazelle, serpent.

Animaux herbivores	Animaux carnivores
.....	.....
.....	.....
.....	.....
.....	.....

4) Parmi les caractéristiques qui différencient les herbivores des carnivores : la dentition, et la longueur du tube digestif. **(2pts)**

→ Relie chaque caractéristique au régime alimentaire qu'il lui convient.

- Grandes incisives ●
- Tube digestif long ● ● Animal herbivore
- Canines longues et pointues ● ● Animal carnivore
- Molaires cisailantes ●

5) Les relations alimentaires entre les êtres vivants dans la nature s'appellent les chaînes alimentaires.

→ Former deux chaînes alimentaires en utilisant les termes suivants; **(2pts):**

Renard, herbe, souris, lièvre, chouette.

Utiliser la flèche → qui signifie : manger par.

.....  
 .....

6) Classer les animaux suivants en : reptiles et mammifères : **(2.5pts)**

Tortue, souris, renard, serpent, crocodile.

Reptiles	Mammifères
.....	.....
.....	.....
.....	.....


7) Les animaux invertébrés se caractérisent des animaux vertébrés par la caractéristique suivante (1pt) :

- a) - Ne possèdent pas des pattes.
- b) - Ne possèdent pas la colonne vertébrale.
- c) - Ovipares.

8) Les polluants de l'eau sont divers, citer deux parmi eux : (1.5pt)

.....  
.....

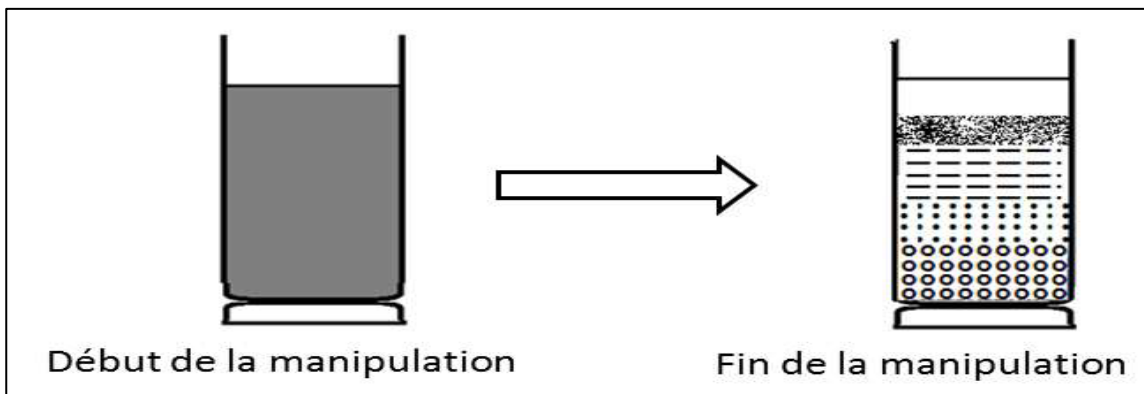
9) Le schéma suivant représente la dentition d'un animal carnivore, légendez le. (Canine, Molaire, Incisive) : (1.5pt)



10) Parmi les facteurs d'érosion qui affectent le sol, on trouve les précipitations. (1.5pt)

→ Construire une phrase correcte en utilisant les mots suivants: Eaux de précipitations, éléments lourds et dissouts, rivières, eaux courantes.

11) Le document suivant représente le début et la fin de la manipulation des éléments d'un sol se trouvant dans un béccher contenant de l'eau : sable, galets et argile.



a) Classer les éléments du sol selon l'ordre de dépôt de bas en haut en utilisant les mots suivants : (1.5pt) sable, galets et argile.

.....