

## Test des prérequis.

Matière : S.V.T

Niveau : 1 AC, section internationale.

Durée : 1h00.

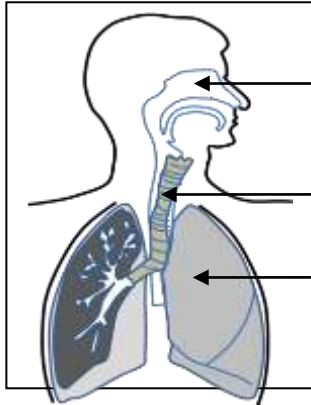
Prof: khalid okba

1- Lors de l'expiration, l'Homme :

- a- Rejette le dioxyde de carbone (CO<sub>2</sub>) dans le milieu.
- b- Prend le dioxygène à partir du milieu.



2- Relie par une flèche chaque organe de l'appareil respiratoire au nom qui lui convient.



a ●

● 1 - Poumon رئة

b ●

● 2- Fosse nasale. حفرة أنفية

c ●

● 3- Trachée رغامه

3- Classer les animaux suivants selon leurs régimes alimentaires (herbivore, carnivore) :

**Éléphant (1), renard (2), aigle (3), gazelle (4), serpent (5), rat (6), hibou (7), sauterelle (8).**  
 فيل 1، نعلب 2، نسر 3، غزال 4، نعبان 5، فأر 6، بومة 7، حرادة 8

Animaux herbivores	Animaux carnivores
.....	.....
.....	.....
.....	.....
.....	.....

4- Parmi les caractéristiques qui différencient les herbivores des carnivores : la dentation, et la longueur du tube digestif.

→ Relie chaque caractéristique au régime alimentaire qu'il lui convient.

Grandes incisives ●

Tube digestif long ●

Canines longues et pointues ●

Molaires cisailantes ●

● Animal herbivore.

● Animal carnivore.

5- Les relations alimentaires entre les êtres vivants dans la nature s'appellent les chaînes alimentaires.

→ Former deux chaînes alimentaires en utilisant les termes suivants :

Renard, herbe, souris, lièvre, chouette. نعلب, عشب, فأر, أرنب, بومة

Utiliser la flèche → qui signifie : manger par.

.....

.....

6- Classifier les animaux suivants en : reptiles et mammifères :

Tortue, souris, renard, serpent, crocodile. سلحفاة, فأر, ثعلب, أفعى, تمساح

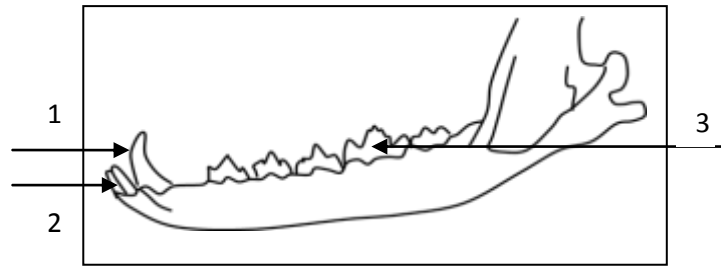
Reptiles الزواحف	Mammifères الثدييات
.....	.....
.....	.....
.....	.....

7- Les animaux invertébrés se caractérisent des animaux vertébrés par la caractéristique suivante :

- + Ne possèdent pas des pattes. لا تتوفر على أرجل
- + Ne possèdent pas la colonne vertébrale لا تتوفر على عمود فقري
- + Ovipares. بيوضة

8- Les polluants de l'eau sont divers, citer deux parmi eux. (ملوثات المياه Les polluants de leau)

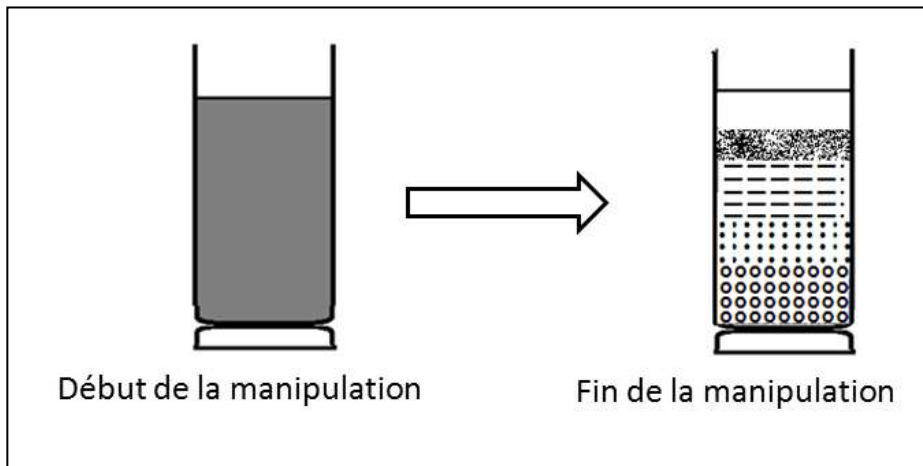
9- Le schéma suivant représente la dentation d'un animal carnivore, légendez le.



10- Parmi les facteurs d'érosion qui affectent le sol, on trouve les précipitations.

→ Construire une phrase correcte en utilisant les mots suivants : Eaux de précipitations, éléments lourds et dissouts, rivières, eaux courantes.

11- Le document suivant représente le début et la fin de la manipulation des éléments d'un sol se trouvant dans un béccher contenant de l'eau : sable, galets et argile.



a- Classer les éléments du sol selon l'ordre de dépôt de bas en haut en utilisant les mots suivants : sable, galets et argile.

---