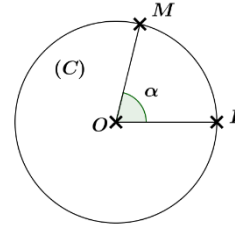


Le contenu

I. Unités de mesure des angles : Radian et grade

Soit (C) un cercle de centre O et de rayon R et soient I et M deux points du cercle (C) et α est la mesure de l'angle $I\hat{O}M$:
 $I\hat{O}M = \alpha^\circ$ et $0 \leq \alpha \leq 360^\circ$.



⊗ Déterminons l la longueur de l'arc IM :

On sait que le périmètre du cercle (C) est $2\pi R$.

$$2\pi R \leftrightarrow 360^\circ$$

Donc : $l \leftrightarrow \alpha^\circ$

Par conséquent: $l = \frac{2\alpha\pi R}{360} = \frac{\alpha\pi R}{180}$.

Dans tous ce qui suit on s'intéresse à la mesure de l'angle $I\hat{O}M$, c'est pour cette raison qu'on pose $R = 1$.

Définition :

Soit (C) un cercle de centre O et de rayon $R = 1$ et soient I et M deux points de (C) .

La mesure de l'angle géométrique $I\hat{O}M$ en radians est la longueur de l'arc IM .

Remarque :

$1rad$ est la mesure d'un angle qui intercepte un arc sur le cercle $C(O,1)$ de longueur 1.

Proportionnalité des unités de mesure des angles :

Il existe trois unités de mesure des angles : Degré, Radian et grade.

La mesure d'un angle plat en degrés est 180° et en radians est π et en grades est $200gr$. C'est-à-dire : $180^\circ = \pi rad = 200gr$.

Définition :

Si x , y et z sont les mesures respectives d'un angle géométrique en degrés, radians et en

grades, alors: $\frac{x}{180} = \frac{y}{\pi} = \frac{z}{200}$.

Exemple :

Déterminons en radians la mesure d'un angle sa mesure en degrés est : 45° .

On a : $\pi \leftrightarrow 180^\circ$
 $a \leftrightarrow 45^\circ$

Donc: $a = \frac{45\pi}{180} = \frac{\pi}{4} rad$.

Application ①:

Compléter le tableau suivant:

Mesure en degrés	0	30	45	60	90		120	
Mesure en radians						$\frac{\pi}{8}$		2π

Remarques

ذ. طارق عبد الكبير

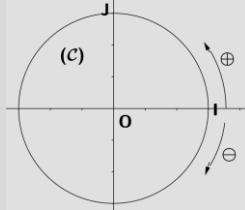
II. Cercle trigonométrique- Abscisses curvilignes d'un point :

1. Cercle trigonométrique :

Définition :

Dans le plan muni d'un repère orthonormé $(O, \overrightarrow{OI}, \overrightarrow{OJ})$, le cercle trigonométrique (C) est un cercle de centre O et de rayon 1 et orienté dans le sens **direct** ou **positif** (le sens contraire des aiguilles d'une montre).

Le point I est appelé **l'origine** du cercle (C) .



2. Abscisses curvilignes d'un point d'un cercle trigonométrique :

Définition :

Soit (C) un cercle trigonométrique.

Tout réel α est représenté sur (C) par un unique point M .

Le nombre α est appelé **une abscisse curviligne** du point M et on écrit $M(\alpha)$.

○ Remarques :

- ⊗ Si α est une abscisse curviligne d'un point M , alors tout nombre écrite sous la forme $\alpha + 2k\pi$ tel que $k \in \mathbb{Z}$ est aussi une abscisse curviligne de M .
- ⊗ Parmi toutes les abscisses curvilignes d'un point M une seule appartient à l'intervalle $]-\pi, \pi]$: c'est l'abscisse curviligne **principale**.

○ Exemple :

Déterminons l'abscisse principale du point $M\left(\frac{37\pi}{3}\right)$.

➤ Méthode ①:

$$\text{On a : } \frac{37\pi}{3} = \frac{36\pi + \pi}{3} = 12\pi + \frac{\pi}{3}.$$

Donc l'abscisse principale du point M est $\frac{\pi}{3}$.

➤ Méthode ②:

Soit α_0 l'abscisse principale du point M .

$$\text{On a : } \frac{37\pi}{3} = \alpha_0 + 2k\pi \text{ tel que } k \in \mathbb{Z}.$$

$$\text{Donc : } \alpha_0 = \frac{37\pi}{3} - 2k\pi.$$

$$\text{Or } -\pi < \alpha_0 \leq \pi, \text{ alors } -\pi < \frac{37\pi}{3} - 2k\pi \leq \pi.$$

ذہن نشانی

Par suite : $\frac{34}{6} \leq k < \frac{40}{6}$ c-à-d $5,66 \leq k < 6,66$.

Puisque $k \in \mathbb{Z}$, alors : $k = 6$.

D'où l'abscisse principale du point M est $\alpha_0 = \frac{37\pi}{3} - 2 \times 6\pi = \frac{\pi}{3}$.

✍ **Application**Ⓣ: **Exercice ① de la série.**

✍ **Exercice:** **Exercice ② de la série.**

○ **Conséquence :**

Si x et y sont deux abscisses curvilignes d'un point M , alors il existe un entier k tel que : $x - y = 2k\pi$.

On écrit dans ce cas : $x \equiv y [2\pi]$ et on dit que x est **congru** à y **modulo** 2π .

✍ **Application**Ⓣ:

Vérifier si la relation $x \equiv y [2\pi]$ est vraie dans les cas suivants :

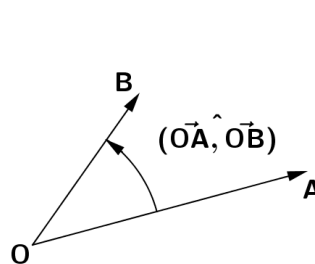
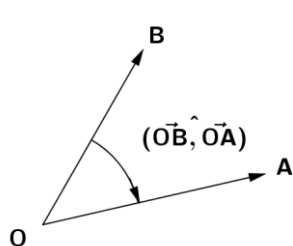
- $x = \frac{43\pi}{12}$ et $y = -\frac{5\pi}{12}$
- $x = \frac{-13\pi}{8}$ et $y = \frac{9\pi}{4}$

III. Angle orienté de deux demi droites ayant même origine- Angle orienté de deux vecteurs :

On considère (P) le plan orienté dans le sens direct rapporté au repère orthonormé (O, \vec{OI}, \vec{OJ}) et soient A et B deux points de (P) .

L'angle formé par les demi droites $[OA)$ et $[OB)$ est appelé **angle orienté** de $[OA)$ et $[OB)$ et on le note par (OA, OB) .

Cet angle est appelé aussi **angle orienté** de deux vecteurs \vec{OA} et \vec{OB} et le note par (\vec{OA}, \vec{OB}) .



○ **Remarques :**

⊗ Si α est une mesure de l'angle orienté (\vec{OA}, \vec{OB}) , alors tout nombre écrit sous la forme $\alpha + 2k\pi$ tel que $k \in \mathbb{Z}$ est aussi une mesure de cet angle. On écrit

$$(\vec{OA}, \vec{OB}) \equiv \alpha [2\pi].$$

⊗ Parmi toutes les mesures de l'angle orienté (\vec{OA}, \vec{OB}) une seule appartient à l'intervalle $]-\pi, \pi]$: c'est la mesure **principale**.

ذ. طارق عبد الكبير

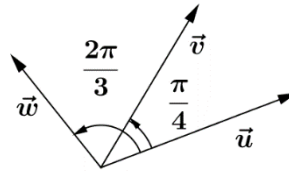
Propriété : (Relation de Chasles)

Soient \vec{u}, \vec{v} et \vec{w} trois vecteurs non nuls du plan orienté. On a :

$$\left(\overrightarrow{\vec{u}, \vec{v}}\right) + \left(\overrightarrow{\vec{v}, \vec{w}}\right) \equiv \left(\overrightarrow{\vec{u}, \vec{w}}\right) [2\pi]$$

Application ④:

Déterminer une mesure de l'angle $\left(\overrightarrow{\vec{v}, \vec{w}}\right)$ sachant que :



Conséquence :

Soient $A(\alpha)$ et $B(\beta)$ deux points sur un cercle trigonométrique de centre O et d'origine I . On a : $\left(\overrightarrow{OA}, \overrightarrow{OB}\right) \equiv \beta - \alpha [2\pi]$.

Application ⑤

Soit (C) d'un cercle trigonométrique (C) de centre O et soient M et N deux points de (C) d'abscisses curvilignes respectives $-\frac{37\pi}{3}$ et $\frac{65\pi}{6}$.

- 1) Trouver les abscisses curvilignes principales de M et N .
- 2) Montrer que : $\left(\overrightarrow{OM}, \overrightarrow{ON}\right) \equiv \frac{\pi}{2} [2\pi]$ puis déduire la nature du triangle OMN .

Propriété : (Relation de Chasles)

Soient \vec{u}, \vec{v} deux vecteurs non nuls. On a :

- $\left(\overrightarrow{\vec{u}, \vec{v}}\right) \equiv -\left(\overrightarrow{\vec{v}, \vec{u}}\right) [2\pi]$.
- $\left(\overrightarrow{-\vec{u}, -\vec{v}}\right) \equiv \left(\overrightarrow{\vec{u}, \vec{v}}\right) [2\pi]$.
- $\left(\overrightarrow{-\vec{u}, \vec{v}}\right) \equiv \pi + \left(\overrightarrow{\vec{u}, \vec{v}}\right) [2\pi]$.
- $\left(\overrightarrow{\vec{u}, -\vec{v}}\right) \equiv \pi + \left(\overrightarrow{\vec{u}, \vec{v}}\right) [2\pi]$.

Application ⑥: Exercice ⑥ de la série.

IV. Rapports trigonométriques d'un nombre réel :

Activité ⑦:

Soit ABC un triangle rectangle en A tel que $AB = 3$ et $BC = 4$.

Calculer $\sin \hat{B}$, $\cos \hat{B}$ et $\tan \hat{B}$.

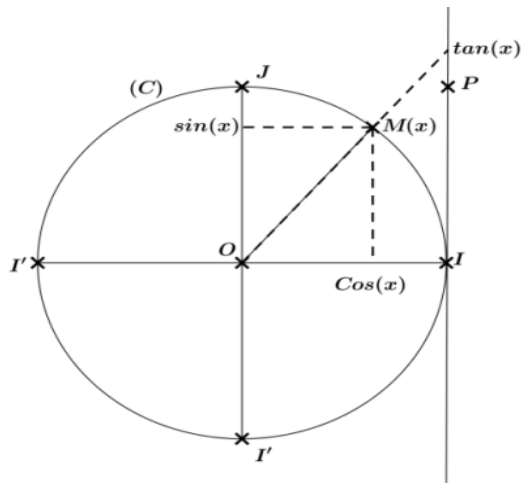
1. Sinus - Cosinus - Tangente d'un nombre réel :

Soient (C) d'un cercle trigonométrique de centre O et d'origine I et J le point de

(C) tel que : $\left(\overrightarrow{OI}, \overrightarrow{OJ}\right) \equiv \frac{\pi}{2} [2\pi]$.

Soit M un point de (C) d'abscisse curviligne x et soit (Δ) la droite passant par I et parallèle (OJ) .

ذ. طارق عبد الكبير



Définition:

- On appelle l'abscisse du point M dans le repère orthonormé $(O, \overline{OI}, \overline{OJ})$ par **cosinus** du nombre réel x et on le note par : $\cos(x)$.
- On appelle l'ordonnée du point M dans le repère orthonormé $(O, \overline{OI}, \overline{OJ})$ par **sinus** du nombre réel x et on le note par : $\sin(x)$.
- On suppose que M différente à J et J' :

L'abscisse du point T d'intersection de (Δ) et (OM) dans le repère (I, P) est appelé **tangente** du nombre réel x et on le note par : $\tan(x)$.

Exemples :

Déterminons cosinus et sinus des points suivants : $I(0)$, $J(\frac{\pi}{2})$, $I'(\pi)$ et $J'(-\frac{\pi}{2})$.

Dans le repère $(O, \overline{OI}, \overline{OJ})$ on a :

- Les coordonnées du point I sont: $(1;0)$, donc : $\cos(0) = 1$ et $\sin(0) = 0$.
- Les coordonnées du point J sont: $(0;1)$, donc : $\cos(\frac{\pi}{2}) = 0$ et $\sin(\frac{\pi}{2}) = 1$.
- Les coordonnées du point I' sont: $(-1;0)$, donc : $\cos(\pi) = -1$ et $\sin(\pi) = 0$.
- Les coordonnées du point J' sont: $(0;-1)$, donc : $\cos(-\frac{\pi}{2}) = 0$ et $\sin(-\frac{\pi}{2}) = -1$.

Conséquences :

Pour tout réel x on a les conséquences suivantes :

- $-1 \leq \cos(x) \leq 1$ et $-1 \leq \sin(x) \leq 1$.
- D'après le théorème de Pythagore : $\cos^2(x) + \sin^2(x) = 1$.
- Puisque x et $x + 2k\pi / k \in \mathbb{Z}$ deux abscisses curvilignes de même points, alors:
 $\cos(x + 2k\pi) = \cos(x)$, $\sin(x + 2k\pi) = \sin(x)$ et $\tan(x + 2k\pi) = \tan(x)$.
- Pour tout réel x différent à $\frac{\pi}{2} + k\pi / k \in \mathbb{Z}$, on a :

$$\tan(x) = \frac{\sin(x)}{\cos(x)} \text{ et } 1 + \tan^2(x) = \frac{1}{\cos^2(x)}.$$

 Application: Exercice 7 de la série.

ذ. طارق عبد الكبير

✍ **Exercice ⑩ de la série.**

2. Signe de cosinus - sinus - tangente d'un nombre réel :

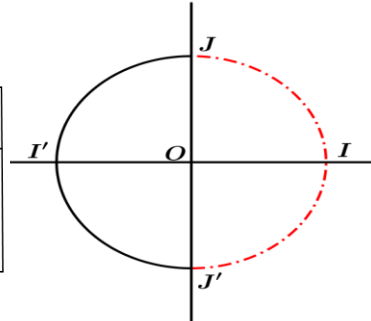
Soit (C) un cercle trigonométrique de centre O et d'origine I et soit M un point de (C) d'abscisse curviligne x .

🌸 **Signe de $\cos(x)$ sur \mathbb{R}**

$\cos(x) \geq 0$ si M est un point de l'arc rouge.

Donc le signe de $\cos(x)$ sur $]-\pi, \pi]$:

x	$-\pi$	$-\frac{\pi}{2}$	$\frac{\pi}{2}$	π	
$\cos(x)$	-	O	+	O	-

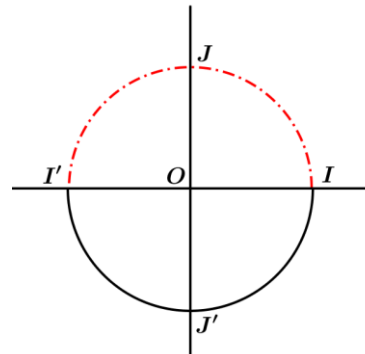


🌸 **Signe de $\sin(x)$ sur \mathbb{R}**

$\sin(x) \geq 0$ si M est un point de l'arc rouge.

Donc le signe de $\sin(x)$ sur $]-\pi, \pi]$:

x	$-\pi$	0	π
$\sin(x)$	-	O	+

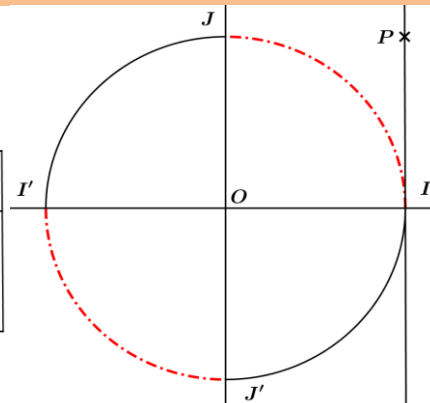


🌸 **Signe de $\tan(x)$ sur \mathbb{R} tel que $x \neq \frac{\pi}{2} + k\pi / k \in \mathbb{Z}$**

$\tan(x) \geq 0$ si M est un point de l'arc rouge.

Donc le signe de $\tan(x)$ sur $]-\pi, \pi]$

x	$-\pi$	$-\frac{\pi}{2}$	0	$\frac{\pi}{2}$	π			
$\tan(x)$	+		-	O	+		-	O



✍ **Application ⑩: Exercice ⑩ de la série.**

3. Relations entre les rapports trigonométriques :

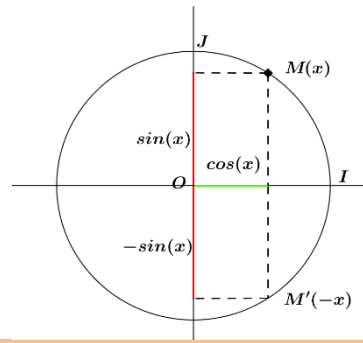
Pour tout réel x on a les relations suivantes:

🌸 **La relation entre les rapports trigonométriques de x et de $-x$**

○ $\cos(-x) = \cos x$

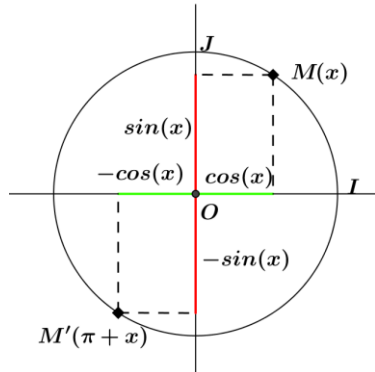
ف. طرش عبد الكبير

- $\sin(-x) = -\sin x$
 - $\tan(-x) = -\tan(x)$ tel que :
- $$x \neq \frac{\pi}{2} + k\pi / k \in \mathbb{Z}$$



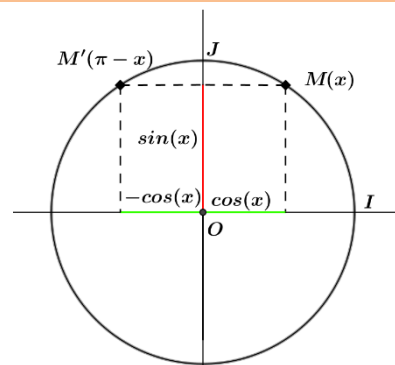
La relation entre les rapports trigonométriques de x et de $\pi + x$

- $\cos(\pi + x) = -\cos x$
 - $\sin(\pi + x) = -\sin x$
 - $\tan(\pi + x) = \tan(x)$ tel que :
- $$x \neq \frac{\pi}{2} + k\pi / k \in \mathbb{Z}$$



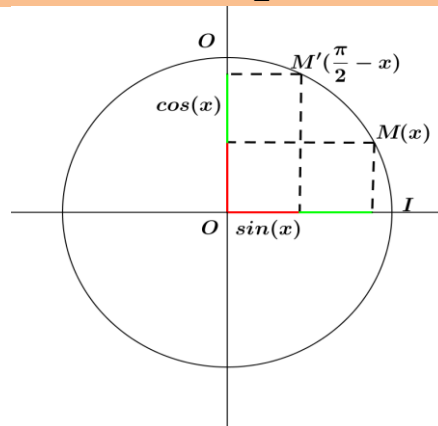
La relation entre les rapports trigonométriques de x et de $\pi - x$

- $\cos(\pi - x) = -\cos(x)$
 - $\sin(\pi - x) = \sin(x)$
 - $\tan(\pi - x) = -\tan(x)$ tel que :
- $$x \neq \frac{\pi}{2} + k\pi / k \in \mathbb{Z}$$



La relation entre les rapports trigonométriques de x et de $\frac{\pi}{2} - x$

- $\cos\left(\frac{\pi}{2} - x\right) = \sin(x)$
 - $\sin\left(\frac{\pi}{2} - x\right) = \cos(x)$
 - $\tan\left(\frac{\pi}{2} - x\right) = \frac{1}{\tan(x)}$ tel que :
- $$x \neq \frac{\pi}{2} + k\pi / k \in \mathbb{Z} \text{ et}$$
- $$x \neq k\pi / k \in \mathbb{Z}$$

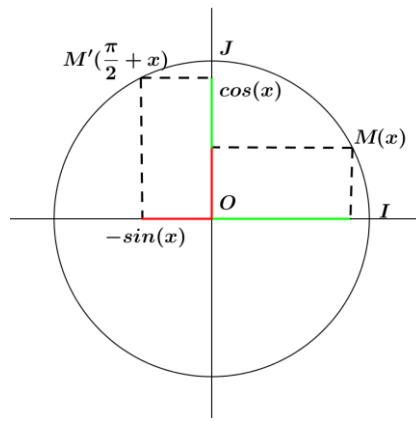


La relation entre les rapports trigonométriques de x et de $\frac{\pi}{2} + x$

- $\cos\left(\frac{\pi}{2} + x\right) = -\sin(x)$

في طريقك جنة كنيسة

- $\sin\left(\frac{\pi}{2} + x\right) = \cos(x)$
- $\tan\left(\frac{\pi}{2} + x\right) = -\frac{1}{\tan(x)}$ tel que :
 $x \neq \frac{\pi}{2} + k\pi / k \in \mathbb{Z}$ et
 $x \neq k\pi / k \in \mathbb{Z}$



✍ **ApplicationⓄ: Exercice ①② de la série**

4. Rapports trigonométriques pour des angles usuels :

On a le tableau suivant :

x	0	$\frac{\pi}{6}$	$\frac{\pi}{4}$	$\frac{\pi}{3}$	$\frac{\pi}{2}$	π
$\cos x$	1	$\frac{\sqrt{3}}{2}$	$\frac{\sqrt{2}}{2}$	$\frac{1}{2}$	0	-1
$\sin x$	0	$\frac{1}{2}$	$\frac{\sqrt{2}}{2}$	$\frac{\sqrt{3}}{2}$	1	0
$\tan x$	0	$\frac{\sqrt{3}}{3}$	1	$\sqrt{3}$		0

✍ **ApplicationⓄ:**

Calculer $\cos\left(\frac{5\pi}{6}\right)$, $\sin\left(\frac{65\pi}{4}\right)$ et $\tan\left(\frac{19\pi}{6}\right)$.

✍ **Exercice ①④ de la série.**

V. Equations et inéquations trigonométrique fondamentales:

1. Equations du type $\cos(x) = a$ et inéquations $\cos(x) \geq a$ et $\cos(x) \leq a$

✍ **Propriété**

Soit a un nombre réel.

- Si $|a| > 1$, alors l'équation $\cos(x) = a$ n'admet pas de solution sur \mathbb{R} .
- Si $|a| \leq 1$, alors il existe un réel α tel que $\cos(\alpha) = a$ et par suite les solutions de l'équation $\cos(x) = a$ sont : $\alpha + 2k\pi / k \in \mathbb{Z}$ ou $-\alpha + 2k\pi / k \in \mathbb{Z}$.

○ **Exemple :**

Résoudrons dans $[0, 2\pi]$ l'équation $\cos(x) = \frac{1}{2}$ et l'inéquation $\cos(x) \leq \frac{1}{2}$.

✍ **ApplicationⓄⓄ:**

Résoudre dans l'intervalle I les équations et les inéquations suivantes :

- ⊗ $\cos(x) = \frac{\sqrt{2}}{2}$ et $\cos(x) < \frac{\sqrt{2}}{2}$ avec $I = [-\pi, \pi]$.
- ⊗ $2\cos(x) + \sqrt{3} = 0$ et $2\cos(x) + \sqrt{3} \geq 0$ avec $I = [-\pi, 3\pi]$.

2. Equations du type $\sin(x) = a$ et inéquations $\sin(x) \geq a$ et $\sin(x) \leq a$

✍ **Propriété**

ذ. طارق عبد الكبير

Soit a un nombre réel.

- Si $|a| > 1$, alors l'équation $\sin(x) = a$ n'admet pas de solution sur \mathbb{R} .
- Si $|a| \leq 1$, alors il existe un réel α tel que $\sin(\alpha) = a$ et par suite les solutions de l'équation $\sin(\alpha) = a$ sont : $\alpha + 2k\pi / k \in \mathbb{Z}$ ou $\pi - \alpha + 2k\pi / k \in \mathbb{Z}$.

○ Exemple :

Résolvons dans $[-\pi, \pi]$ l'équation $\sin(x) = \frac{1}{2}$ et l'inéquation $\sin(x) \leq \frac{1}{2}$.

✍ Application ①② :

Résoudre dans l'intervalle I les équations et les inéquations suivantes :

⊗ $\sin(x) = \frac{\sqrt{2}}{2}$ et $\sin(x) < \frac{\sqrt{2}}{2}$ avec $I = [0, 2\pi]$.

⊗ $2\sin(x) + \sqrt{3} = 0$ et $2\sin(x) + \sqrt{3} \geq 0$ avec $I = [-2\pi, \pi]$.

3. Equations du type $\tan(x) = a$ et inéquations $\tan(x) \geq a$ et $\tan(x) \leq a$

✍ Propriété

On considère l'équation $\tan(x) = a$ où $a \in \mathbb{R}$.

Soit S son ensemble de solutions.

Il existe un réel α tel que $\tan(\alpha) = a$ et on a $S = \{\alpha + k\pi / k \in \mathbb{Z}\}$.

○ Exemple :

Résolvons dans $[-\pi, \pi]$ l'équation $\tan(x) = \sqrt{3}$ et l'inéquation $\tan(x) \leq \sqrt{3}$.

✍ Application ①③ :

Résoudre dans l'intervalle I les équations et les inéquations suivantes :

⊗ $\tan(x) = 1$ et $\tan(x) < 1$ avec $I = [0, 2\pi]$.

⊗ $\tan(x + \frac{\pi}{3}) + \sqrt{3} = 0$ et $\tan(x + \frac{\pi}{3}) + \sqrt{3} \geq 0$ avec $I = [-2\pi, \pi]$.

VI. Angles inscrits et quadrilatères inscrits :

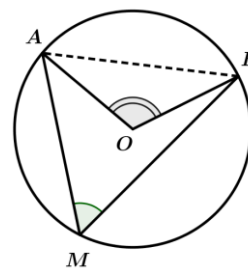
1. Angles inscrits — Angles au centre :

Soient (C) un cercle de centre O , et $[AB]$ une corde de (C) et

M un point de (C) .

L'angle \widehat{AMB} est appelé **angle inscrit** interceptant la corde $[AB]$ sur le cercle (C) .

L'angle \widehat{AOB} est appelé **angle au centre** interceptant la corde $[AB]$ sur le cercle (C) .



$$\text{On a : } \widehat{AOB} = 2\widehat{AMB}.$$

✍ Application ①④ :

Soit (C) un cercle de diamètre $[AB]$.

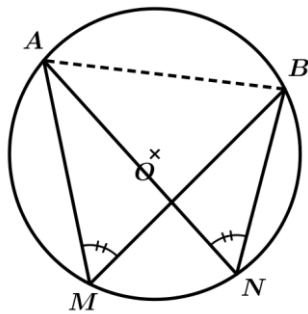
Montrer que pour tout C du cercle (C) le triangle ABC est rectangle en C .

✍ Propriété :

Deux angles inscrits dans un cercle interceptant la même corde sont isométriques ou

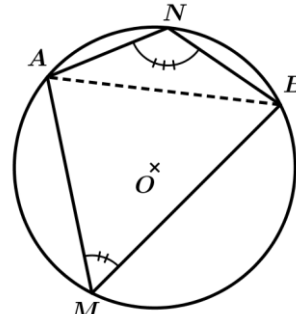
في طرح عبد الكبير

supplémentaires.



$$\widehat{AMB} = \widehat{ANB}$$

Angles isométriques



$$\widehat{AMB} + \widehat{ANB} = \pi$$

Angles supplémentaires

2. Les quadrilatères inscrits :

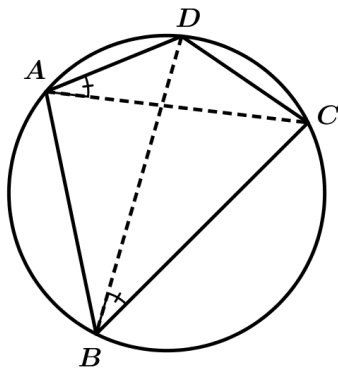
Définitions :

Un **quadrilatère inscrit** est un quadrilatère dont les sommets se trouvent tous sur un seul et même cercle. Les sommets sont dits **cocycliques**. Le cercle est dit **circonsrit** au quadrilatère.

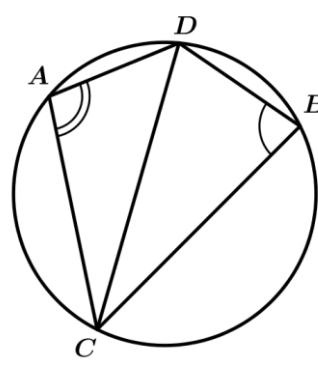
Propriété :

Soient A, B et C trois points non alignés du plan et soit (C) le cercle circonscrit au triangle ABC et soit D un point du plan.

Le point D appartenant au cercle (C) si et seulement si $\widehat{BAD} + \widehat{BCD} = \pi$ ou $\widehat{BAD} = \widehat{BCD}$.



$$\widehat{BAD} = \widehat{BCD}$$



$$\widehat{BAD} + \widehat{BCD} = \pi$$

VII. Lois de sinus dans un triangle :

1. Surface d'un triangle :

Théorème :

Soit ABC un triangle de surface S .

On pose $a = BC, b = AC$ et $c = AB$. On a :

$$S = \frac{1}{2} ab \sin(C) = \frac{1}{2} ac \sin(B) = \frac{1}{2} bc \sin(A)$$

Démonstration :

Soit H le projeté orthogonal de A sur (BC) .

ذ. طارق عبد الكبير

On sait que : $S = \frac{1}{2} BC \times AH$.

Or $\sin(C) = \frac{AH}{AC}$, alors $AH = AC \times \sin(C)$.

Par conséquent : $S = \frac{1}{2} BC \times AC \times \sin(C) = \frac{1}{2} ab \sin(C)$.

De la même procédure on montre que : $S = \frac{1}{2} ac \sin(B)$ et

$$S = \frac{1}{2} bc \sin(A).$$

Application ①⑤ :

Soit ABC un triangle équilatéral tel que $AB = 3$.

Calculer la surface de ce triangle.

2. Lois de sinus dans un triangle :

Théorème :

Soit ABC un triangle et soit R le rayon de cercle circonscrit au triangle ABC .

On pose $a = BC$, $b = AC$ et $c = AB$.

$$\text{On a : } \frac{\sin(A)}{a} = \frac{\sin(B)}{b} = \frac{\sin(C)}{c} = \frac{1}{2R}.$$

Application ①⑥ : Exercice ②③ de la série.

Théorème :

Soient ABC un triangle et p son périmètre et r est le rayon de cercle inscrit au triangle ABC .

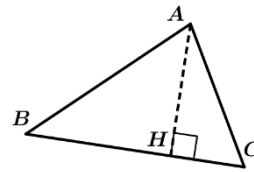
$$\text{On a : } S = \frac{1}{2} pr.$$

Démonstration :

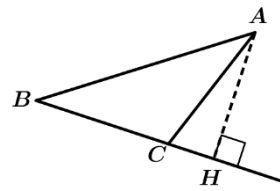
On considère la figure ci-contre :

$$\begin{aligned} \text{On a : } S_{ABC} &= S_{AOC} + S_{AOB} + S_{BOC} \\ &= \frac{1}{2} r \times AC + \frac{1}{2} r \times AB + \frac{1}{2} r \times BC \\ &= \frac{1}{2} r (AB + AC + BC) \\ &= \frac{1}{2} pr. \end{aligned}$$

Exercice ②④ de la série.



Ou



ذ. طارق عبد الكبير