

Nom et Prénom :

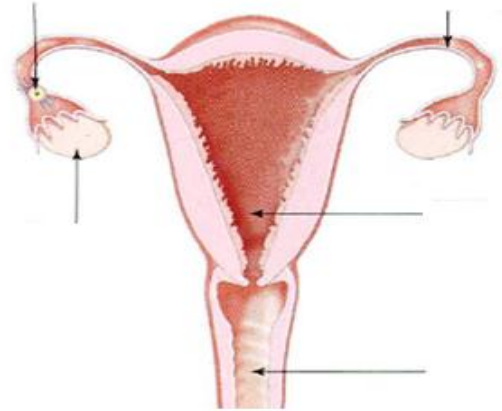
Date : / 06/ 2017

Classe :

**Restitution des connaissances : (8 points).**

1- **Donner** la définition de : Menstruation, ovulation (2p)

2- **Mettre** dans chaque case le nom qui lui convient parmi les expressions suivantes ; Vagin, - Trompe de Fallope, - Ovaire, - Utérus, - Ovule, Col de l'utérus (2,5p)



3- **répondre par vrai ou faux (2,25p)**

Chez l'homme les testicules produisent des spermatozoïdes jusqu'à la ménopause

Chez la femme les ovaires fonctionnent de façon cyclique

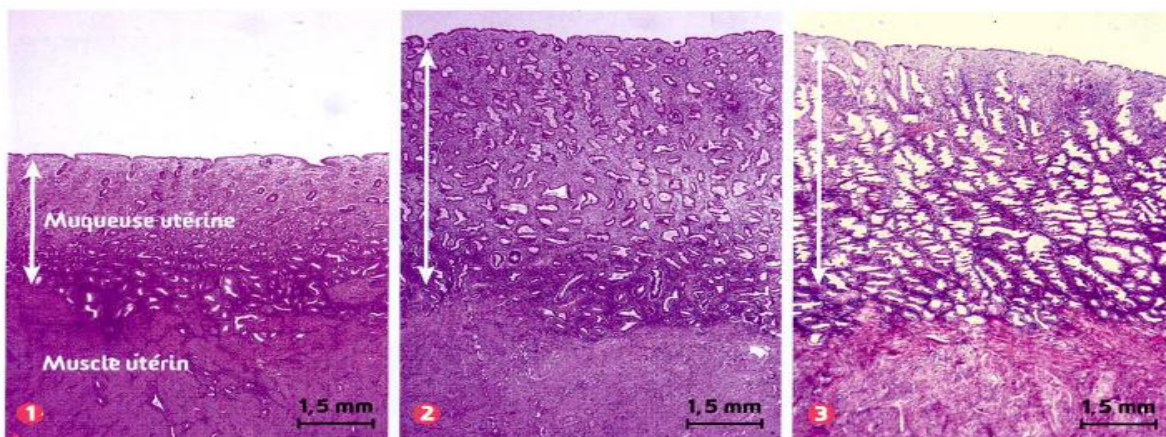
On appelle cellule œuf l'ovule après le fécondation

4- **Donner** le nom des hormones sexuelles chez la femme et chez l'homme. (2,25p)

**Raisonnement scientifique et communication écrite et graphique : (12 points).**

**Exercice 1 :**

Le document ci-dessous illustre la forme de la muqueuse utérine à trois moments du cycle utérin.

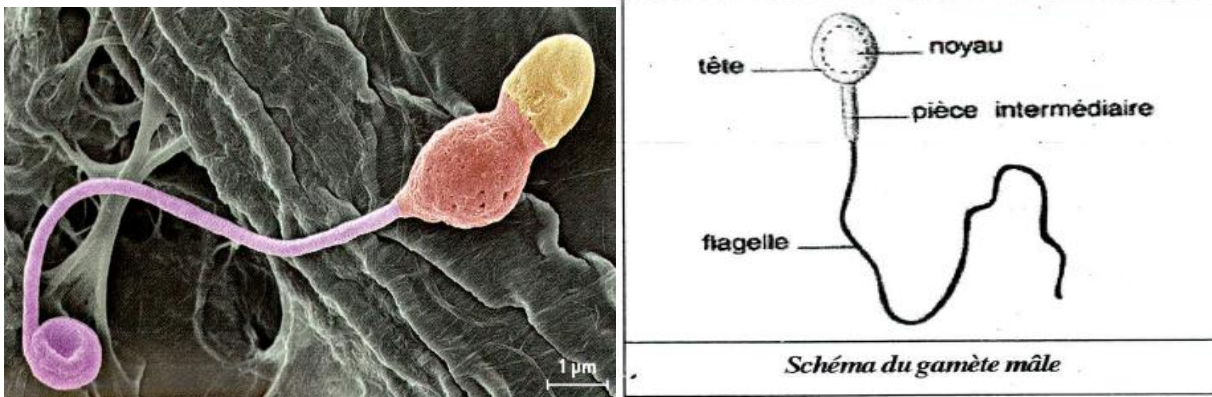


**Décrire** chaque moment du cycle utérin en lui donnant un nom exact. (3p)

<b>Prof : Dounia CHELLOULI</b>	Contrôle continu N° : 4	Durée : 1h
	SVT	2AC

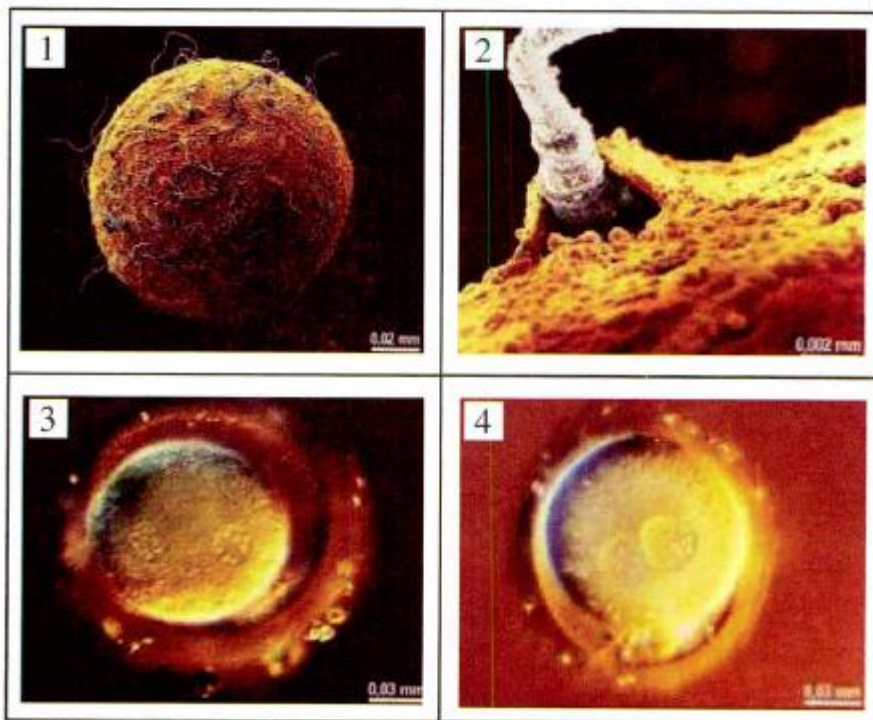
**Exercice 2 :**

Le document ci-dessous illustre un spermatozoïde malformé.



- 1- **Comparer** la forme du spermatozoïde malformé avec celle du spermatozoïde normal (schéma). (2p)
- 2- **Tirer** une **conclusion** concernant cette malformation. (2p)

**Exercice 3 :**



**Décrire** les quatre étapes de la fécondation (4p)