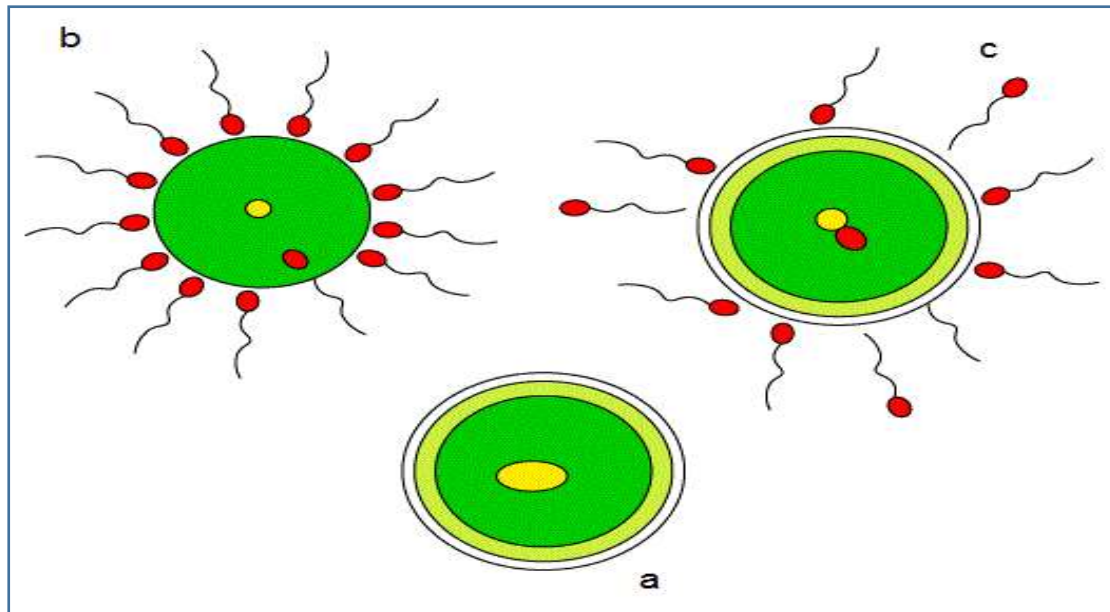


## Exercices d'évaluation : la fécondation chez l'homme

### Exercice 1 : (Correction exercice 1)

Ces dessins présentent différentes étapes de la fécondation.

- 1- Replacer dans l'ordre chronologique ces différents dessins.
- 2- Expliquer ce que représente chaque dessin.



### Exercice 2 : maîtriser du vocabulaire spécifique (Correction exercice 2)

- Pendant les deux premiers mois de la grossesse le futur bébé est dans sa période .....
- Du 3<sup>eme</sup> au 9<sup>eme</sup> mois de la grossesse le futur bébé est dans sa période .....

### Exercice 3 : Connaître les définitions du vocabulaire spécifique

(Correction exercice 3)

- Placenta
- La poche des eaux
- Cordon ombilical

- Amortit les chocs
- Relie le bébé au placenta
- Permet les échanges

**Exercice 4 :** (Correction exercice 4)

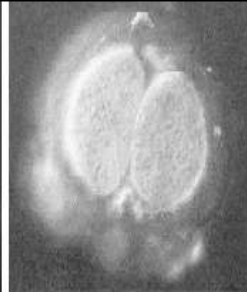
1- **Ecrire** sous chaque image le nom du stade de la cellule : cellule stade 2- morula- cellule œuf- Fécondation.



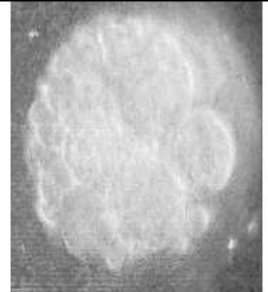
.....



.....



.....



.....

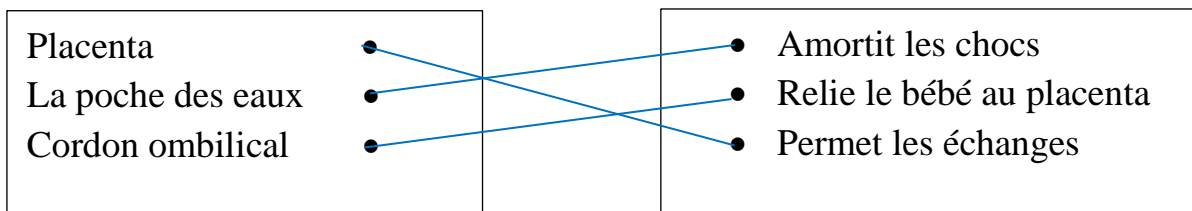
**Correction exercice 1** : [\(Retour vers exercice 1\)](#)

- 3- l'ordre chronologique des étapes est le suivant : b(1)- c (2)- a (3).
- 4- L'étape 1 : est **la rencontre** entre le spermatozoïde et l'ovule.  
L'étape 2 : est **l'entrée** du spermatozoïde dans l'ovule.  
L'étape 3 : est **la fusion** des deux noyaux des cellules reproductrices pour former **la cellule œuf**.

**Correction exercice 2** : [\(Retour vers exercice 2\)](#)

- Pendant les deux premiers mois de la grossesse le futur bébé est dans sa période **embryonnaire**.
- Du 3eme au 9eme mois de la grossesse le futur bébé est dans sa période **foetale**.
- 

**Correction exercice 3** : [\(Retour vers exercice 3\)](#)



**Correction exercice 4** : [\(Retour vers exercice 4\)](#)

