

الملاحظة	الإدارة	الأب/ الولي
20		



السادسة ابتدائي

1- أكتب الأعداد التالية بالحروف والأرقام :

ثلاثة ملايين ومئة وخمسة وسبعون مليوناً وثلاثمائة

9 047 025 :

ثلاثة وحدات وسبعة أجزاء من المنة

ب- أكمل الجدول :

3

عدد	عدد وحدات الألف	عدد العشرات	عدد عشرات الملايين
684 315 289	.....	.....	.....

2- رتب الأعداد التالية ترتيباً تناقصياً :

2

153,026 ; 153,256 ; 114,062 ; 114,3 ; 153,6

3- أضع وأنجز ( على الورقة المزدوجة )

3

$$567,36 - (126,7 + 98,36)$$

$$7,54 \times 6,8$$

4- أحول إلى الوحدة المطلوبة :

2

$$50,67 \text{ m} = \dots \text{ dm}$$

$$8,7 \text{ km } 45 \text{ m} = \dots \text{ Dm}$$

5- اعط الكتابة العشرية أو الكسرية للأعداد التالية :

2

$$\frac{63}{10} ; \frac{87}{1000} ; 4,72 ; 3,9$$

6- دون استعمال المنقلة أحسب قياس

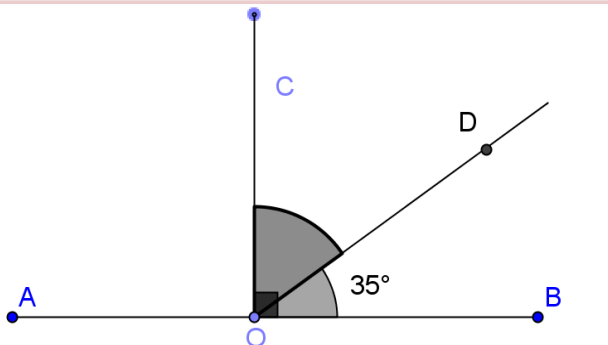
الزاوية COD ثم AOD

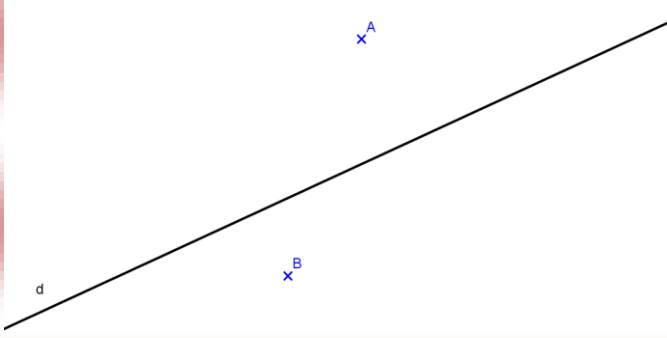
$$\text{COD} = \dots$$

2

$$\text{AOD} = \dots$$

أنشئ منصف الزاوية COD

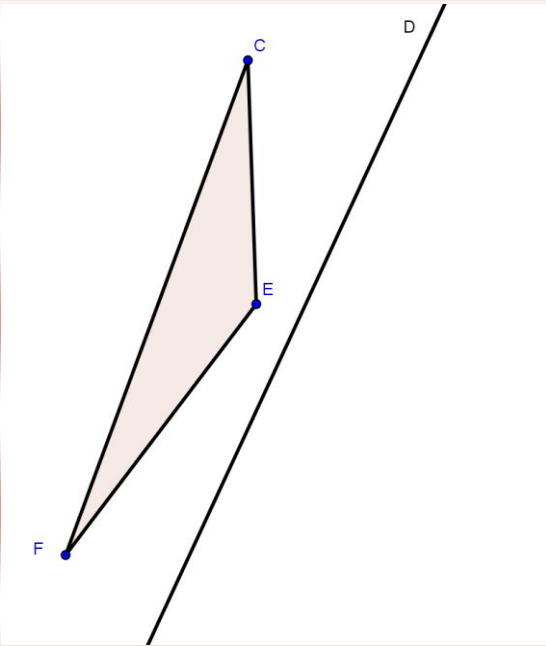




7 - نعتبر المستقيم (d) والنقطتين A و B خارجه

- أ - أنشئ المستقيم (d1) المار من A و الموازي لـ (d).  
 ب - أنشئ المستقيم (d2) المار من B و العمودي على (d)

8 - أنشئ مماثل الشكل بالنسبة للمحور (D) (على الورقة)



2

2

9- أنا عدد صحيح مكون من 4 أرقام أرقام الأربعة مختلفة، محصورة بين العددين 4100 و 4116 أقبل

القسمة على 4 ولا أقبل القسمة على 3 ولا على 9

• فمن أكون؟