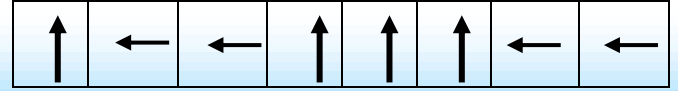
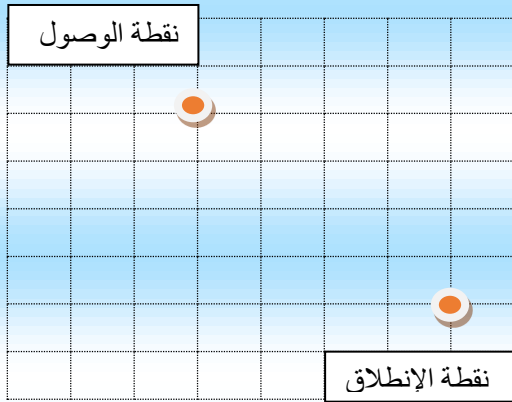


1- ألون السهم المتجه نحو الاسفل:



2- لاحظ القن ثم أرسم المسار على الشبكة:



3- أصل بخط:

- 76
- 105
- 100
- 43
- مئة
- ثلاثة واربعون
- مئة وخمسة
- ستة وسبعون

4- أرتب الأعداد التالية من الأصغر إلى الأكبر باستعمال الرمز المناسب:

71 ; 34 ; 9 ; 17 ; 56

5- أملأ الفراغ بما يناسب:

$60 + 4 = ..$

$80 + .. = 100$

$10 + . = 20$

$100 + 30 + 1 = ...$

6- أقرن بوضع الرمز المناسب: < أو > أو = مكان النقط:


7 11
105 150

35 30
41 14

7- أصل بخط:



06 : 15



05 : 30




03 : 00

8- أكتب التوقيت الذي تشير إليه الساعة:

08 : 00

04 : 30

9- أحيط بخط النقود لأحصل على المبادلة الصحيحة:



10- تملك دعاء النقود التالية:



أ - احسب المبلغ الذي تتوفر عليه دعاء:

ب - هل تستطيع دعاء شراء كتاب ثمنه 55 درهما