

الرياضيات

مراقبة 1 الأسدوس الثاني



الاسم الكامل:
التاريخ:
الفوج:
القسم: الثاني ابتدائي

الملاحظة	الإدارة	الأب/ الولي
10		

1 / أضع وأنجز.



$358 + 123$

$463 + 153$

$325 + 24$

.....
.....
.....
.....

1.5

2 / أنجز ما يلي.

$$\begin{array}{r} 215 \\ - 103 \\ \hline \end{array}$$

$$\begin{array}{r} 438 \\ - 214 \\ \hline \end{array}$$

$$\begin{array}{r} 253 \\ - 12 \\ \hline \end{array}$$

.....

1.5

3 / أملأ الفراغ بما يناسب :

$$\begin{array}{r} 653 \\ + \quad \quad \quad \\ \hline \end{array}$$

$$\begin{array}{r} 234 \\ + \quad \quad \quad \\ \hline \end{array}$$

$$456$$

$$98 \cdot$$



4 / يملك فلاح 25 خروفا ، باع منها 13 خروفا .

- كم بقي لديه من خروف ؟

.....
.....
.....

1

1


5 / دخل أب محلا تجاريا واشترى قميصا ب150 درهما و حذاء ب200 درهم و أشياء أخرى ب 65 درهما .

- أحسب ثمن المشتريات :

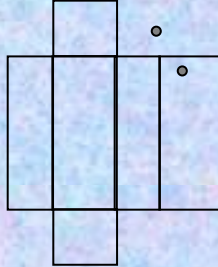
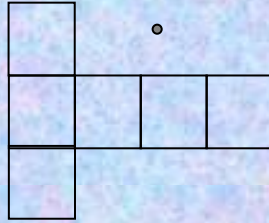
.....
.....
.....

1

6 / أصل كل مجسم بنشره :



1



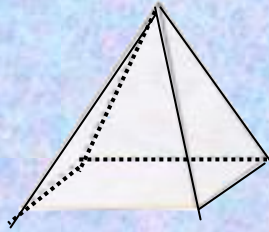
7 / ألاحظ ثم اكتب :

اسم المجسم :

عدد رؤوسه :

عدد حروفه :

عدد وجوهه :

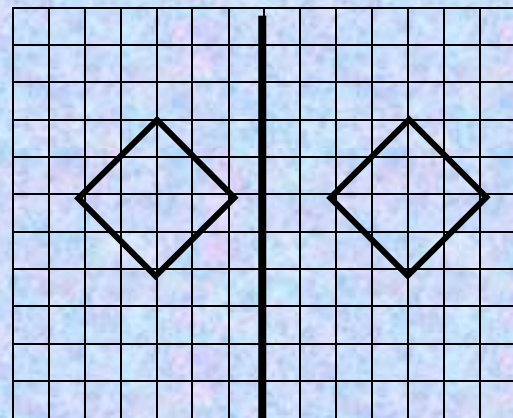
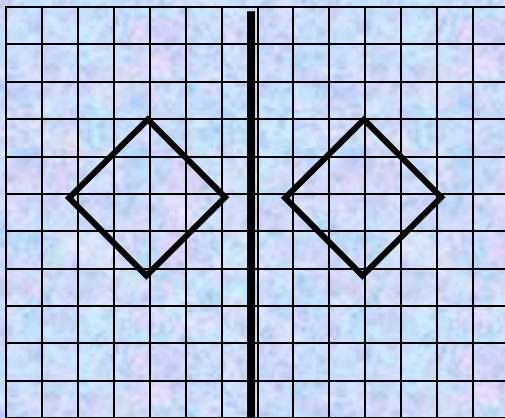


1

8 / أرسم قطعة قياس طولها 4 سنتيمترات

1

9 / أضع علامة (x) تحت الشكلين المتماثلين :



1

