

إمضاء الولي:

إمضاء الإدارة:

10

النقطة:

1- املا الفراغ بما يناسب: أطرافها - حواسها - لسانها.

تستعمل البقرة للبحث، للجري، شفتاها و
..... للضم

2- أصل بخط:

تمزق اللحم

تطحن الطعام

تقطع الطعام

الاضراس

القواطع


الانياب

3- أكتب نعم او لا:

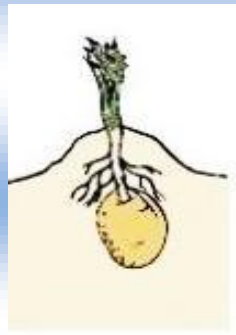
- أنظف اسناني باستمرار

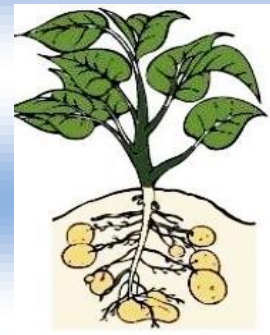
- العب بالأدوات الحادة

- تناول الأغذية الصحيحة

4- أرتب مراحل نمو النبتة بترتيب الصور من 1 الى 4:







5- اكتب صحيح او خطأ في الخانة المناسبة:

- استعمل اثناء المضغ لساني واللغاب والفكين

- الكتف مفصل ضيق الحركة

- الحيوانات لا تنمو

- يقع مفصل الورك بين الفخذ والبطن.

6- أصل بخط:

المخالب والانياب

اللسان والعينان

العينان والمنقار

للحصول على غذائها تستعمل الدجاجة

7- أتمم بما يناسب: الورك – المفصل.

- يسمى موقع التقاء عظمين او أكثر

- مفصل واسع الحركة.

8- اكتب اسم المفصل المناسب امام كل سهم: الكعب – الورك – الكتف – الركبة – المرفق.

