

الاسم الكامل:
التاريخ:
الفوج:
القسم: الثاني ابتدائي

الملاحظة	الإدارة	الأب/ الولي
10		

1 أكتب بالأرقام أو الحروف

.....	↔	127
مئتان وسبعة عشر	↔
.....	↔	600
ثلاث مئة وسبعة	↔
.....	↔	473

1.25

2 أضع وأنجز العمليات التالية

$$756 - 124$$

$$468 + 143$$

.....
.....
.....

2

3 أصل بخط

10

$$5 \times 4$$

14

$$2 \times 7$$

60

$$2 \times 5$$

20

$$6 \times 10$$

4 أكمل

$$4 \times 200 = \dots\dots$$

$$13 \times 10 = \dots\dots$$

$$60 \times \dots\dots = 300$$

$$30 \times \dots\dots = 60$$

$$5 \times \dots\dots = 250$$

1.25

5 أنجز العمليات التالية.

$$\begin{array}{r} 187 \\ \times 5 \\ \hline \end{array}$$

$$\begin{array}{r} 102 \\ \times 2 \\ \hline \end{array}$$

$$\begin{array}{r} 125 \\ \times 3 \\ \hline \end{array}$$

$$\begin{array}{r} 216 \\ \times 4 \\ \hline \end{array}$$

.....

.....

.....

.....

2

6 تحتوي علبة على 6 أقلام ملونة


أحسب عدد الأقلام التي تحتوي عليها 10 علب

.....

0.75

أكمل بما يناسب : أخف من - أثقل من - له نفس ثقل

7

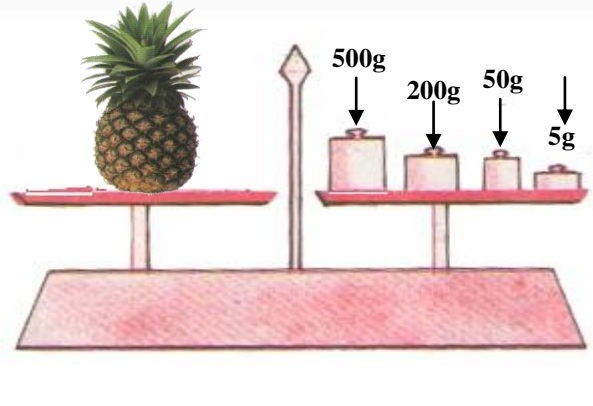


الطماطم.....الموز

0.5

ألاحظ ثم أحسب كتلة الأناناس


8



550 درهما

يتوفر يوسف على المبلغ التالي :

9



1.25



350 درهما



150 درهما

احسب المبلغ الذي يتوفر عليه يوسف.

أحدد لعبة يستطيع يوسف شراءها بالمبلغ المتوفر لديه

أحدد لعبتين يمكن شراءهما بالمبلغ المتوفر لدى يوسف.