

## مراقبة مستمرة رقم 2 في النشاط العلمي

اسمي: .....

1. أكتب الاسم المناسب أمام كل سهم:




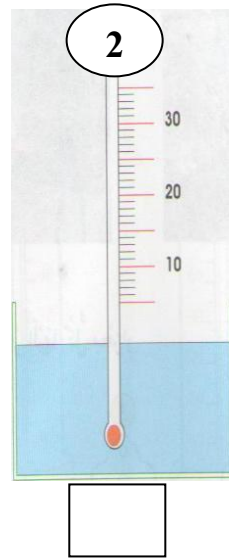
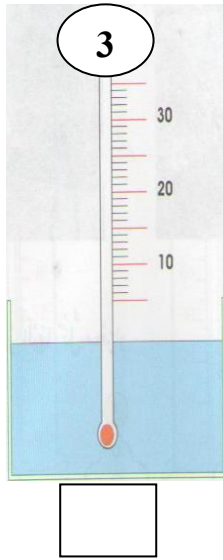
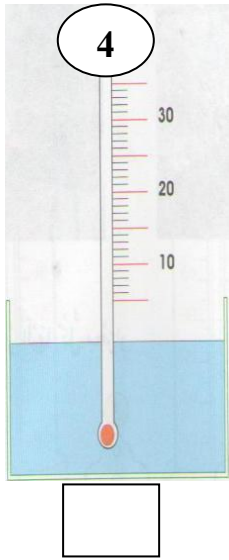

.....

.....

.....

.....

2. ألاحظ وأكتب درجة الحرارة التي يشير إليها كل محرار:

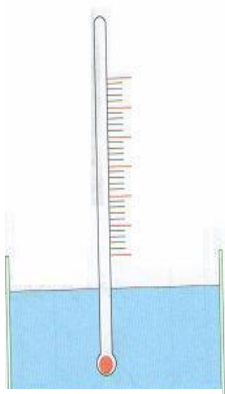


- أعلى درجة هي: .....

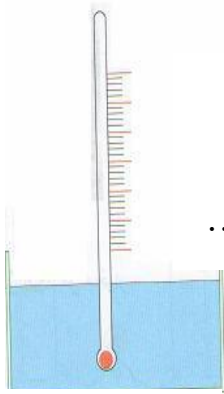
- رقم المحرار الذي يشير إلى أدنى درجة هو: .....

- أرتب درجات الحرارة من أعلى درجة إلى أدنى درجة: .....

3. وضعنا محرارين في إناءين مختلفين:



ماء بارد



ماء ساخن

1. لون السائل المحراري في كل حالة.

2. في أي حالة ينزل السائل المحراري؟

.....

اسم الوالي وتوقيعه: