

الرياضيات

المراقبة المستمرة 2 الأسدوس الثاني

الاسم الكامل:
التاريخ:
الفوج:
القسم: الثالث ابتدائي

الملاحظة	الإدارة	الأب/ الولي
10		



تعرف و استخدام التقنية الاعتيادية للطرح

معرفة:

1 / أصل بخط:

$$\begin{array}{r} 6 \times 3 \\ \hline \end{array}$$

$$\begin{array}{r} 4 \times 5 \\ \hline \end{array}$$

$$\begin{array}{r} 10 \times 8 \\ \hline \end{array}$$

$$\begin{array}{r} 20 \\ \hline \end{array}$$

$$\begin{array}{r} 80 \\ \hline \end{array}$$

$$\begin{array}{r} 18 \\ \hline \end{array}$$

فهم

2 / أنجز:

$$\begin{array}{r} 254 \\ \times 13 \\ \hline \end{array}$$

$$\begin{array}{r} 352 \\ \times 4 \\ \hline \end{array}$$

$$\begin{array}{r} 413 \\ \times 2 \\ \hline \end{array}$$

$$\begin{array}{r} \\ + \\ \hline \end{array}$$

3/ اشترت تعاونية مدرسية بذلال 12 لاعبا ثمن البذلة الواحدة 130 درهما.

احسب ثمن المشتريات.

.....
.....
.....
.....
.....
.....
.....

0.75

1.5

0.75

تأطير أعداد - تعرف و إيجاد مضاعف عدد معلوم.

معرفة

4 / أصل بخط :

2 .

5 .

3 .

• 8 مضاعف للعدد :

فهم

5 / أحيط بخط مضاعفات العدد 5 :

7

15

6

20

12

6 / أكتب 4 مضاعفات للعدد 3 :

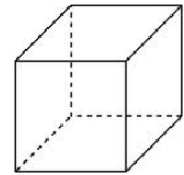
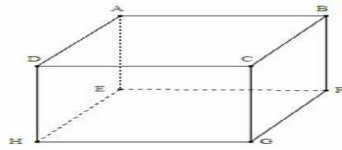
7 / أكتب تأطيرا للعدد

بين عشرين متتاليتين : $\dots < 1432 < \dots$

تعرف و رسم المكعب و نشره

معرفة

8 / ضع علامة (X) تحت المكعب :



فهم:

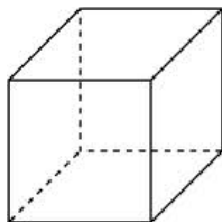
9 / ألاحظ و اكتب :

❖ عدد رؤوس الجسم:

❖ عدد حروفه:

❖ عدد وجوهه:

❖ شكل وجوهه:



0.5

0.5

1

0.5

0.5

1

معرفة

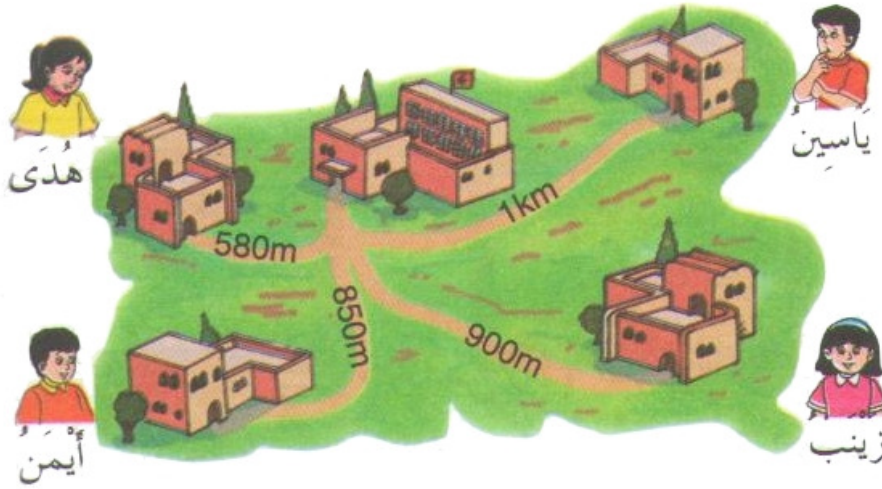
10/ أضع علامة أمام الجواب الصحيح:

$1\text{Km} = 10\text{ m}$

$1\text{Km} = 1000\text{ m}$

فهم


11/ الألاحظ ثم أجيب:



أ- حدد المسافة الفاصلة بين منزل زينب و المدرسة:

ب - ما اسم الطفل الأقرب من المدرسة؟

12 / احسب كتلة الفاكهة:



13 / حول إلى الوحدة المطلوبة:

$5\text{ kg} = \dots\dots\dots\text{ g}$

$3\text{ km} = \dots\dots\dots\text{ m}$

$3\text{ kg } 250\text{ g} = \dots\dots\dots\text{ g}$

$1250\text{ m} = \dots\dots\text{ km } \dots\dots\dots\text{m}$