

# النشاط العلمي

## المراقبة المستمرة [الأسدوس الثاني]

الاسم الكامل:  
التاريخ:  
الفوج:  
القسم : الأول ابتدائي

الملاحظة	الإدارة	الأب/ الولي
10		



الهدف : تعرف على بعض الأغذية ومصادرها وفوائدها.

### معرفة

1 أصل بين الغذاء ومصدره.

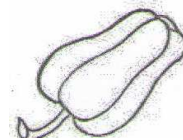


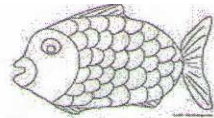



### فهم

2 ألون:

☞ الأغذية من أصل نباتي بالأخضر.

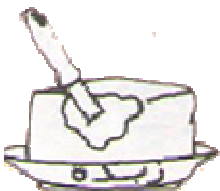
☞ الأغذية من أصل حيواني بالأحمر.



1.5

2


3 أحيط الحليب ومشتقاته.



0.75

أشطب ما يضر صحتي.

4



الهدف: اكتشاف تنوع الأنظمة الغذائية عند الحيوانات (التمييز بين الحيوان: العاشب واللحم).

معرفة

أصل كل حيوان بغذائه.

5



أكتب ما يناسب تحت كل حيوان: عاشب - لحم

6



فهم

من بين هذه الحيوانات: حيوان لحم أحيطه بخط مغلق.

7



خروف



لقلاق



حصان

0.5

1

1.5

0.75

أضع علامة X في بطاقة الجواب الصحيح.

الحيوان اللّاحم يتغذى بأغذية من أصل حيواني.

الفيل حيوان عاشب.

القنينة حيوان لّاحم.

اللبؤة حيوان لّاحم.

