

## الأسدوس الثاني



المادة النشاط العلمي

الولي	الإدارة	النقطة
		10

الاسم: .....

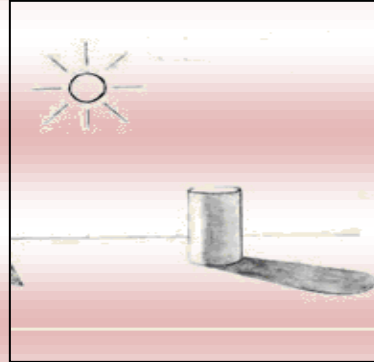
التاريخ: .....

الفوج: .....

المستوى الأولي ابتدائي



حاجز



مصدر ضوئي

ظل

1 / أصل بسهم

0.75


2 / أكتب : شفاف - نصف شفاف - معتم :



جسم .....



جسم .....



جسم .....

1.5


3 / أضع علامة (X) أمام الجمل الصحيحة :

- يوجد الحاجز بين المصدر الضوئي و الظل .
- الرمل جسم شفاف.
- الشمس مصدر ضوئي .
- الجسم الشفاف لا يسمح بالرؤية


2

4 / أضع علامة (X) تحت كل حيوان ولود .











1

5 / أصل بخط



1

بيضة

حورية

أسروع


فراشة

6 / أرتب مراحل نمو التدرج بترقيمها من 1 إلى 5



1.25

7 / أصل كل حيوان بصغيره:



8 / أجيب ب: نعم أو لا

لأصبح صديقا للماء:

☞ لا ألقى الأزبال في الماء .

☞ أحافظ على الماء من التبذير .

☞ أبحث عن الحيوانات الموجودة في الماء لأقتلها

1.5