

أرتب الأعداد التالية من الأصغر إلى الأكبر


6

5 . 1 . 9 3 .

0.5

أصل بخط

0.75




أخف من البطيخة

أثقل من البطيخة

لها نفس ثقل البطيخة

البطة

8 ط بخط 7 دراهم




1



9 ألاحظ ثم أجيب:



* يملك علي :



* تملك هند :

.....

أ- كم يملك علي من النقود؟

.....

ب- كم تملك هند من النقود؟



لا

نعم

ج- ألون الجواب الصحيح:

* هند تملك أكبر مبلغ:

1.5