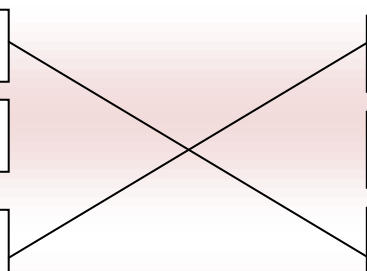


الاسم العائلي و الشخصي : ..... المستوى الأولي ابتدائي التاريخ: .....

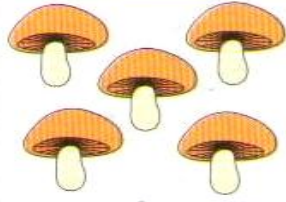



إمضاء الإدارة	إمضاء الأب أو الولي	النقطة

1 / أصل بخط أو أكمل.



أربعة		7
ثلاثة		9
سبعة		4
.....		.....

2 / أملأ البطاقات بالأعداد المناسبة

			
<input type="text"/>	<input type="text"/>	<input type="text"/>	<input type="text"/>

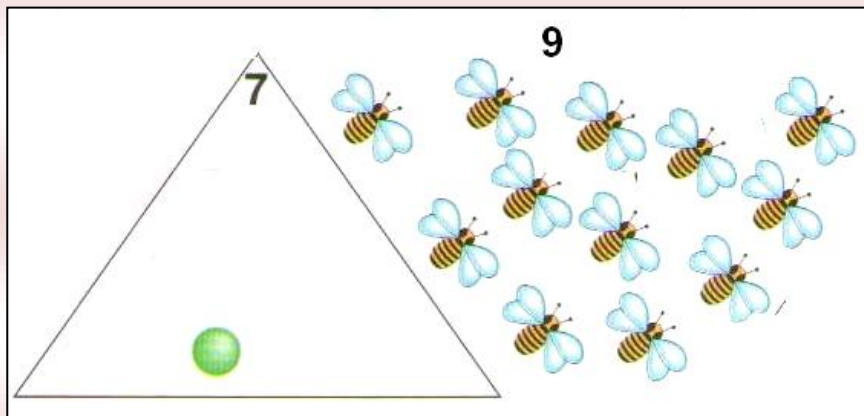
3 / أكتب عدد الأقلام الملونة :



⊙ بالأرقام : .....

⊙ بالحروف : .....

4 / أشطب العناصر الزائدة و أكمل الرسم



## 5 / ألون بطاقات العدد 8

$4 + 3$

$5 + 5$

ثمانية

$4 + 4$

$3 + 5$

عشرة

$7 + 1$

$8 + 2$

## 6 / أقرن باستخدام الرمز المناسب : < أو > أو =

$3 \dots 8$

$3 + 2 \dots 7$

$5 \dots 4$

$8 + 2 \dots 10$



## 7 / أرتب الأعداد التالية من الأصغر إلى الأكبر.


5 ; 1 ; 9 ; 4 ; 6

..... < ..... < ..... < ..... < .....

## 8 / أحسب المبالغ التي يملكها الأطفال




مريم



أحمد



ريم



من يملك أكبر مبلغ ؟

## 9 / أحيط بخط الصورة المناسبة

الأناناس أثقل من الليمونة

